

第一部分 常识判断

根据题目要求，在四个选项中选出一个最恰当的答案。

请开始答题

- 近年来，国家统计局公布的CPI数据成为反映社会经济生活状况的“晴雨表”。下列关于CPI的表述错误的是（ ）。
 - CPI是反映我国通货膨胀程度的主要指标
 - CPI用于衡量消费者经常购买的确定的商品和劳务的价格变化
 - 按年度计算的CPI变动率不能反映通货紧缩的程度
 - CPI是市场经济活动与政府货币政策的重要参考指标
- 党的十七届二中全会通过的《关于深化行政管理体制改革的意见》指出，要全面正确履行政府职能，改善经济调节，严格市场监管，（ ），注重公共服务。
 - 民主政治建设
 - 发展科学技术
 - 加强社会管理
 - 发展文化事业
- 根据《公务员考核规定（试行）》，对公务员的考核，以公务员的职位职责和所承担的工作任务为基本依据，全面考核德、能、勤、绩、廉，重点考核工作实绩。年度考核的结果分为哪四个等次？（ ）
 - 优秀、合格、基本合格和不合格
 - 优秀、称职、基本称职和不称职
 - 优秀、良好、合格和不合格
 - 优秀、良好、称职和不称职
- 在钢的分类中，优质钢是按照什么标准来分类的？（ ）
 - 化学成分
 - 用途
 - 冶炼方法
 - 冶炼质量
- 李某性格怪癖，因受单位领导批评而发泄不满，驾车冲向闹市区人群，当场撞伤5人。李某的行为构成（ ）。
 - 以危险方法危害公共安全罪
 - 交通肇事罪
 - 重大责任事故罪
 - 故意杀人罪
- 蔬菜是人类不可缺少的食物，它富含人体需要的维生素、矿物质及消化系统所必需的粗纤维等。下列说法中错误的是（ ）。
 - 叶菜类均含有铁、钾、维生素以及胡萝卜素
 - 花菜类含维生素A、B、C和相当丰富的矿物质
 - 根茎类含有较多的胡萝卜素和维生素B、C
 - 豆菜类含有较多的维生素C和矿物质
- 1970年4月24日，中国自行设计制造的第一颗人造地球卫星由长征一号火箭成功发射。1988年9月27日，中国核潜艇水下发射运载火箭获得成功，中国空间技术进入新的时代。我国第一颗人造地球卫星的名字是（ ）。
 - 神州一号
 - 东方红一号
 - 银河一号
 - 黄河一号
- 大力加强党的作风建设是加强党的建设的一项重大战略任务，对于进一步提高党的领导水平和执政水平，不断增强党的创造力、凝聚力和战斗力，具有十分重要的意义。加强党的作风建设必须把（ ）放在第一位。
 - 生活作风
 - 领导作风
 - 思想作风
 - 工作作风

9. 中国拥有丰富的盐资源，“柴达木”是蒙古语“盐泽”的意思，柴达木盆地有 33 个盐湖，据初步勘探结果，柴达木盆地盐储量为 600 多亿吨，占全国探明储量的一半以上，它不仅是中国的盐矿之冠，也是世界盐矿之冠。世界卫生组织规定一天摄盐不超过 6 克是比较健康的。按每人每年用盐 5kg 计算，柴达木盆地的盐可供全世界 60 亿人食用多少年？（ ）
- A. 200
B. 500
C. 1000
D. 2000
10. 某市民政局干部刘某将上级拨付的救济款 50 万元，挪用于自己买卖股票。半年后刘某害怕事发入狱，将手中股票抛出后，携款潜逃。刘某的行为构成下列哪项罪名？（ ）
- A. 挪用特定款物罪
B. 挪用公款罪
C. 贪污罪
D. 挪用资金罪
11. 人在遇到危险的时候，会爆发出比平时更大的力量和产生更敏捷的反应，此时如测定其体内激素水平，明显提高的是（ ）。
- A. 胰岛素
B. 肾上腺素
C. 性激素
D. 甲状腺素
12. 《2011 年河北省政府工作报告》中指出，2011 年河北省经济社会发展的主攻方向和着力点是（ ）。
- A. 统筹城乡发展，深入推进城镇化和新农村建设
B. 加快发展、扩大就业、改善民生
C. 加快转变经济发展方式，推动产业结构优化升级
D. 稳增长、调结构、控物价、惠民生
13. 2010 年 12 月 31 日，新华社全文发布 2011 年中央一号文件，该文件的主题是（ ）。
- A. 促进农业稳定发展农民持续增收
B. 系统部署水利水电改革发展工作
C. 加大统筹城乡发展力度有关问题
D. 切实加强农业基础设施建设问题
14. 人才是强国的根本，人才资源是第一资源。什么是人才，可谓见仁见智，人才应该具备的基本素质倒是共通的，许多领导、学者认为，引领未来社会发展的，也是社会最缺乏的人才必须具备三大条件，三大条件不包括（ ）。
- A. 作风务实
B. 品格高尚
C. 基础扎实
D. 才干出色
15. 在近期的宏观经济调控中，中央银行多次提高存款利率。存款储蓄有多种形式，其中能够最大限度地吸收社会闲散资金的有效形式是（ ）。
- A. 活期存款
B. 整存整取
C. 零存整取
D. 整存零取
16. 我国有着丰富的茶文化，品茶不仅有益身心健康，还能怡情养性。不同产地的茶风味迥异，下列名茶中产自安徽的是（ ）。
- A. 碧螺春
B. 龙井茶
C. 铁观音
D. 六安瓜片
17. 金砖国家领导人第三次会晤于 2011 年 4 月 14 日在中国海南三亚举行，会后发表了《三亚宣言》。除了中国、俄罗斯、印度和巴西外，下列哪个国家作为金砖国家机制新成员参加了这次会晤？（ ）。
- A. 苏丹
B. 南非
C. 罗马尼亚
D. 乌克兰
18. 中国中央政府门户网站的网址是（ ）。

- A. <http://www.chinadaily.com.cn> B. <http://www.gov.cn>
C. <http://cpC.people.com.cn> D. <http://www.people.com.cn>
19. 中国共产党第十六届中央委员会第五次全体会议，于 2005 年 10 月 8 日至 11 日在北京举行。全会听取和讨论了胡锦涛受中央政治局委托作的工作报告，审议通过了（ ）。
A. 《中共中央关于制定国民经济和社会发展第十一个五年规划的建议》
B. 《中共中央关于制定国民经济和社会发展第十个五年规划的建议》
C. 《中共中央关于制定国民经济和社会发展第九个五年计划的建议》
D. 《中共中央关于制定国民经济和社会发展第八个五年计划的建议》
20. 不负刑事责任的年龄为不满（ ）。
A. 18 周岁 B. 16 周岁
C. 14 周岁 D. 12 周岁
21. 下列不属于文化遗产的是（ ）。
A. 布达拉宫 B. 承德避暑山庄
C. 大同云冈石窟 D. 九寨沟风景名胜区
22. 2006 年 3 月 4 日，胡锦涛同志在看望政协委员时正式发表了（ ）。
A. 社会主义荣辱观 B. 社会主义科学发展观
C. 三个代表 D. 社会主义和谐社会观
23. 具有多媒体功能的微型计算机系统中，常用的 CD-ROM 是（ ）。
A. 只读型光盘 B. 半导体只读存储器
C. 只读型硬盘 D. 只读型大容量软盘
24. 我国最大的岛屿是（ ）。
A. 海南岛 B. 辽东半岛
C. 台湾岛 D. 南沙群岛
25. 孔子著有（ ）。
A. 春秋 B. 论语
C. 诗经 D. 尚书

第二部分 言语理解与表达

本部分包括表达与理解两方面的内容。请根据题目要求，在四个选项中选出一个最恰当的答案。

请开始答题：

26. 留得青山在，不怕没柴烧，已经成为一些人不思进取的借口。不要再有“留得青山在，不怕没柴烧”的侥幸，留得青山在，也怕没柴烧。青山不是资本，可能只是一线希望。吝惜“青山”会颓废你的心灵，吝惜“青山”会埋没你的斗志。
这段话是要告诉我们（ ）。
- A. 人生苦短，如白驹过隙
B. 把握今天胜于等待明天
C. 留得青山在，也许没柴烧
D. 要苦心志，砺筋骨
27. 河北省河流众多，长度在 18 公里以上 1000 公里以下者就达 300 多条。境内河流大都发源或流经燕山、冀北山地和太行山山区，其下游有的合流入海，有的单独入海，还有因地形流入湖泊不外流者。主要河流从南到北依次有漳卫南运河、子牙河、大清河、永定河、潮白河、蓟运河、滦河等，分属海河、滦河、内陆河、辽河 4 个水系。其中海河水系最大，滦河水系次之。
这段材料重点介绍了（ ）。
- A. 河流的数量
B. 河流的流向
C. 河流的发源
D. 河流的水系
28. 宋真宗赵恒御笔做“劝学篇”，有“书中自有黄金屋”流布天下几近千年。黄金榜求龙头望，成了书生实现人生价值的“自古华山一条道”。当“黄金屋”成为读书的唯一价值取向时，很容易将一个民族的思维纳入功利和实用的框架，看似加速了现代化的进程，实则开了历史的倒车。借书籍端正人生要义，“正其谊不谋其利，明其道不计其功”才是书的王道。
这段文字要表达的意思是（ ）。
- A. 人们对于读书的理解，不能让功利的目的占了上风
B. “书中自有黄金屋”是许多人读书的目的和追求
C. 读书就是读书，何必附加上那么多的东西
D. 读书可以启智明理修身养性，也可以蒙蔽心智唯利是图
29. 人生不但是近朱者赤，近墨者黑，而且极可能近大者大，近小者小。三百六十行，行行有大人物。有为的青年，首先应该知道你这一行的权威人士是谁，然后想办法“接近”他们。例如，读他们的传记，听他们的演讲，了解他们的成就，使自己襟怀开阔，目标远大。这就像做书法家一样，手上备有若干部真正的好碑好帖，时时观摩，而且任何机会看见好字，决不放过。
最能概括上面这段文字的一个字是（ ）。
- A. 持
B. 恒
C. 愿
D. 志
30. 《菩萨蛮·黄鹤楼》茫茫九派流中国，沉沉一线穿南北。烟雨莽苍苍，龟蛇锁大江。黄鹤知何去？剩有游人处。把酒酹滔滔，心潮逐浪高！
对毛泽东这首词解说错误的一项是（ ）。
- A. “九派”，水的支流叫派，相传长江在湖北、江西一带，分为九个支派
B. “沉沉”，亦作“沈沈”，深远貌。“一线”指横在眼前的铁路
C. “酹”，用酒祭地。“把酒酹滔滔”是说把滔滔江水当酒，来祭奠大地
D. “龟蛇锁大江”，是说龟山和蛇山夹江对峙，制约着翻滚的江流

31. 有一位数学家说：“很难想象一个文理不通、错字连篇的人，能把逻辑严谨的数学内涵表达出来。”著名数学家苏步青说：“我从小打好的语文基础，对我学习其他学科提供了很大的方便。我还觉得学好语文对训练一个人的思维很有帮助，可以使思想更有条理。这些，对我后来学好数学都有很大好处。”人们赞誉苏步青为“数学诗人”。

这段文字表达的是（ ）。

- A. 即使文理不通、错字连篇的人，也能把数学内涵表达出来
- B. 学好语文是学好数学的必备条件
- C. 数学家用亲身体会，明确地指出了学好语文的重要性
- D. 赞扬了“数学诗人”苏步青的惊人才华

32. 去年李文同学参加市作文大赛，名落孙山，他很沮丧。语文老师对他只说了一句话：“这会过去的。”今年，李文同学又参加市作文大赛，获得一等奖，他可高兴了。这时语文老师还是对他只说了一句话：“这会过去的。”

对这段文字理解准确的是（ ）。

- A. 语文老师让李文学会忘掉一切
- B. 语文老师不关心李文的事情
- C. 语文老师认为成功和失败是一样的
- D. 语文老师教诲李文胜不骄败不馁

33. 记得有人说过，一个人须从古今中外的作家那里去寻找和自己性情相近的人。一旦找到思想相近之作家，心中必万分痛快，灵魂亦发生剧烈震撼，如春雷一鸣，蚕卵孵出，得一新生命，入一新世界，于是流连忘返，乐此不疲，如受春风化雨之赐，终获学业大进之益。这个主张阐发了读书活动中一条基本规律。

最能体现这段文字主题的是（ ）。

- A. 得一新生命，入一新世界
- B. 找到思想相近之作家
- C. 寻找和自己性情相近的人
- D. 流连忘返，乐此不疲

34. 随着老年人口的日益增加，退休费、医疗费、福利费的支出自然呈上升趋势，客观上要求有坚强的经济后盾，而目前全省的人口老龄化与经济发展不同步，经济水平滞后大大削弱了社会对老龄人口的承受能力。因此，家庭养老的作用不可忽视，家庭养老在保证老年人物质生活需要的同时，也有利于老年人的心理健康。

对这段文字理解准确的是（ ）。

- A. 老年人口的增加，影响了经济发展
- B. 强调家庭养老的重要性
- C. 人口老龄化，造成经济水平滞后
- D. 增强社会对老龄人口承受能力

35. “此处不留人，自有留人处”给了懒人正大光明的借口，给了懦夫逃避现实的理由。可残酷的是，生活不相信借口，竞争没有理由。换个环境不如换个心情，与其精神胜利，不如自我激励。换个环境，就像把淡水鱼放进海里，空间是大了，可是命也危矣。苛求环境，不如苛求自己，我们改变不了世界，地球不会老围着你转——除非你是太阳。

最能概括上面文字内容的一句话是（ ）。

- A. 环境永远都不会恰合你意
- B. 苛求环境不如苛求自己
- C. 处处都留人，只是人不在
- D. 物竞天择，适者生存

我不喜欢一个苦孩求学的故事。家庭十分困难，父亲逝去，弟妹嗷嗷待哺，可他大学毕业后，还要坚持读研究生，母亲只有去卖血……我以为那是一个自私的学子。求学的路很漫长，一生一世的事业，何必太在意几年蹉跎？况且这时间的分分秒秒都苦涩无比，需用母亲的鲜血灌溉！一个连母亲都无法挚爱的人，还能指望他会爱谁？把自己的利益放在至高无上位置的人，怎能成为为人类献身的大师。

我相信每一个赤诚忠厚的孩子，都曾在心底向父母许下“孝”的宏愿，相信来日方长，相信水到渠成，相信自己必有功成名就衣锦还乡的那一天，可以从容尽孝。可惜人们忘了，忘了时间的残酷，忘了人生的短暂，忘了世上有永远无法报答的恩情，忘了生命本身有不堪一击的脆弱。

父母走了，带着对我们深深的挂念。父母走了，遗留给我们永无偿还的心情。你就永远无以言孝。有一些事情，当我们年轻的时候，无法懂得。当我们懂得的时候，已不再年轻。世上有些东西可以弥补，有些东西永无弥补。“孝”是稍纵即逝的眷恋，“孝”是无法重现的幸福。“孝”是一失足成千古恨的往事，“孝”是生命与生命交接处的链条，一旦断裂，永无连接。

赶快为你的父母尽一份孝心。也许是一处豪宅，也许是一片砖瓦。也许是大洋彼岸的一只鸿雁，也许是近在咫尺的一个口信。也许是一顶纯黑的博士帽，也许是作业簿上的一个红五分。也许是一桌山珍海味，也许是一只野果一朵小花。也许是花团锦簇的华衣，也许是一双洁净的旧鞋。也许是数以万计的金钱，也许只是含着体温的一枚硬币……在“孝”的天平上，它们等值。只是，天下的儿女们，一定要抓紧啊！趁你的父母还健在。

36. 作者为什么说大学毕业后还要坚持读研究生的苦孩是“一个自私的孩子”？（ ）
- A. 他太重学业而让父母付出沉重的代价，没能尽一份孝心
B. 在对待自己的利益上，过于计较分分秒秒的时间了
C. 把自己的幸福未来建立在父母的痛苦之上，不道德
D. 大公无私不仅要运用在工作上，对亲人同样适用
37. 关于“孝”，作者在短文中向我们表明了一个怎样的现实？（ ）
- A. 孝不仅是一个口号，更需要具体行动
B. 弘扬中华孝道是当前的迫切需要
C. 如今社会，人们对孝道越来越淡漠了
D. 时间的流逝，将带走行孝的机会
38. “在‘孝’的天平上，它们等值”这句话是什么意思？（ ）
- A. 一个没有孝心的人是没有前途的，一个没有传统文化的民族是没有前途的
B. 人人都是父母所生，父母所养，父母年迈，子女尽孝养之责，天经地义
C. 不论以什么方式、用什么内容行孝，只要真心真意，都将是珍贵和美好的
D. 善有善报，恶有恶报，关爱今天的老人，就等于关爱明天的自己
39. 对全文的理解，正确的一项是（ ）。
- A. 孝顺父母是中华民族的传统美德，对父母的挚爱是人世间最珍贵的情感
B. 把自己的利益放在至高无上位置的人，怎能成为为人类献身的大师
C. 短文专门对求学的苦孩和断然离开重病在床的父母的游子所发
D. 通过议论，将“孝心无价”的观点展现在人们面前
40. 短文用形象而又富有哲理的议论，告诉我们一个道理（ ）。
- A. 为人自私，难成大业
B. 一屋不扫，何以扫天下
C. 百善孝为先，万恶淫为首
D. 孝为德之本，百善孝为先
41. 露珠的身体很小，生命也很短暂，但它却是不平凡的。当夜幕笼罩的时候，它像慈母用乳汁_____婴儿一样地滋润着禾苗；当黎明到来的时候，它又最早睁开那不知疲倦的眼睛；它白天隐身于空气中，夜晚无声地辛勤工作。
- 填入划横线处最恰当的一项是（ ）。
- A. 教育
B. 培育
C. 哺育
D. 养育
42. 下列依次填入横线处的词语，恰当的一组是（ ）。
- ①小说中的典型形象虽然有生活的_____，但仍属于虚构的形象。
②出了差错，要多从自己身上找原因，不要老是埋怨别人，_____责任。

49. 长江流域，无疑也是民族文化的_____之一。考古发现_____，旧石器时代处于长江上游今云南境内的元谋人，与黄河流域今陕西境内的蓝田人_____。这个结论具有划时代的意义。填入划横线处最恰当的一项是（ ）。
- A. 发祥地 证明 并存
B. 发源地 表明 共存
C. 发源地 证明 并存
D. 发祥地 表明 共存
50. 《中华人民共和国未成年人保护法》规定，禁止对未成年人实施家庭暴力，_____虐待、遗弃未成年人，禁止溺婴和其他残害婴儿的行为，_____歧视女性未成年人或者有残疾的未成年人。填入划横线处最恰当的一项是（ ）。
- A. 不准 杜绝
B. 杜绝 不准
C. 不得 禁止
D. 禁止 不得
51. 下列各组词语中，括号内的字的读音完全不同的一组是（ ）。
- A. (倏)忽 (枢)纽 毁家(纾)难 自出机(杼)
B. (蹊)跷 (溪)水 (栖)身之所 休(戚)与共
C. (湛)蓝 客(棧) (战)战兢兢 破(绽)百出
D. (调)函 (粿)米 千里(迢)迢 武装(挑)衅
52. 下列各句中，没有语病的一句是（ ）。
- A. 只有把想法付诸于行动，才能最大限度地达到我们的目标
B. 雷锋精神当然要赋予它新的内涵，但谁又能否认现在就不需要学习雷锋了呢
C. 这些软件如果单卖共要 1000 元，可合在一起才 340 元，价钱便宜了近三分之二
D. 连日来，美英法等西方国家集结了令人威慑的军事力量，使非洲地区战云密布
53. 茅盾故乡乌镇的小河两岸都是密密的芦苇，真是秘不透风，每当其间显现一座石桥时，仿佛发闷的苇丛作了一次深呼吸，透了一口舒畅的气。这段话中有三个错别字，它们是（ ）。
- A. 秘 作 抒
B. 秘 佛 抒
C. 密 作 佛
D. 密 从 畅
54. 下列各句中，没有语病的一句是（ ）。
- A. 随着第三尊佛像逃过塔利班劫难而现身峡谷的消息传开，让人不由联想到阿富汗昨日的灾难和今日的不幸
B. 当宾客们来到这个秀丽的小花园后，才看到姚明婚礼的主会场竟设在花园湖心的小岛上举行，大家对婚庆公司的这个巧妙安排啧啧称奇
C. 中国外交部发言人在记者招待会上表示，达赖集团加紧从事分裂祖国、破坏西藏稳定的活动的图谋过去没有得逞，今后也不会得逞
D. 《中国人最易读错的字》一书选取近 200 个中国人最易读错的字为对象，除了作出语音的正误判断外，还对读错的原因进行了分析，具有较高的学术价值
55. “毛病”一词有许多含义，下列几句话中“毛病”的含义依次是（ ）。
- ①一到天阴下雨时他就腿疼，这是他的老毛病了。
②我刚买的电视机有声音没图像，你知道是哪儿出毛病了吗？
③你成天心不在焉的毛病，一定要下决心改掉。
④如果不加分析地用他们的经验，是要出毛病的。
- A. 病症 失误 缺点 错误
B. 病症 故障 缺点 错误
C. 病症 故障 问题 错误
D. 病症 问题 错误 事故

56. 下列各句中，表达准确的一句是（ ）。
- A. 司马迁推崇孔子，却把孔子的每句话都当作清规戒律，这一点值得我们借鉴
- B. 他见老领导生活条件很差，不禁动了恻隐之心，忙到商店买了一些果品回来
- C. 某局长前不久因违纪受到处分，最近又因腐败丑行而被停职，真是雪上加霜
- D. 以每个人发 100 元钱来应付拖欠农民工工钱问题，这种做法只能是扬汤止沸
57. 下列词语中，没有错字的一组是（ ）。
- A. 呕歌 呕吐 愠气
- B. 慢谈 漫骂 漫延
- C. 简练 提炼 锤炼
- D. 字贴 体贴 妥贴
58. 下列各句中，表达正确的是（ ）。
- A. 这些人对个人利益斤斤计较，对广大群众的疾苦却漠不关心
- B. 一个烟头引起了大火，这栋被烧毁的大楼让人叹为观止，唏嘘不已
- C. 有人说：“生活提高了，生产就会提高。”这是舍本逐末的说法
- D. 这场戏真演得绘声绘色，赢得满场观众的喝彩
59. 下列语句中括号内的字使用不当的一项是（ ）。
- A. 曾经多少次，美人鱼从海底钻出海面，（坐）在礁石上欣赏星空
- B. 疲倦像涨潮一样，从他身体的各处（爬）上来，考验着他的毅力
- C. 我的眼前展开一片海边碧绿的沙地，上面深蓝的天空中（挂）着一轮金黄的圆月
- D. 母爱是伟大的，考古发现，许多母亲在死前的瞬间还把孩子（搂）在怀里
60. 下列各句中，意思明确，没有语病的一句是（ ）。
- A. 全世界至少有五万人每天死于由水污染引起的各种疾病
- B. 那个叫刘能的人不只是我不认识他，就连我奶奶也不认识他
- C. 能不能正视历史，是日本能成为安理会常任理事国的关键
- D. 据说，秦始皇每天批阅写在竹简和木片上的文字，有 600 公斤重

第三部分 数量关系

在这部分试题中，每道题呈现一段表述数字关系的文字，要求你迅速、准确地计算出答案。

请开始答题

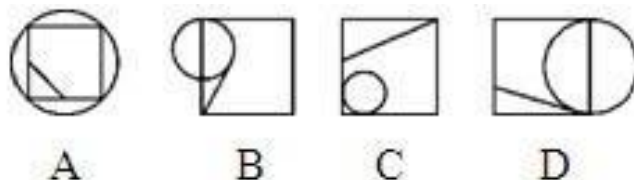
61. $-1, 0, 1, 1, 4, ()$ 。
A. 8
B. 11
C. 25
D. 36
62. $6, 7, 3, 0, 3, 3, 6, 9, 5, ()$ 。
A. 1
B. 2
C. 3
D. 4
63. $257, 178, 259, 173, 261, 168, 263, ()$ 。
A. 163
B. 164
C. 178
D. 275
64. $2, 3, 4, 9, 32, ()$ 。
A. 47
B. 83
C. 128
D. 279
65. $1, 1, 2, 6, 24, ()$
A. 48
B. 96
C. 120
D. 122
66. 小明一家过一座桥，过桥时是黑夜，所以必须拿着唯一的灯过桥。现在小明过桥要 1 秒，小明的弟弟要 3 秒，小明的爸爸要 6 秒，小明的妈妈要 8 秒，小明的爷爷要 12 秒。每次过桥最多可过两人，而过桥的速度依过桥最慢者而定，而且灯在点燃后 30 秒就会熄灭。问：小明一家过桥至少需要多长时间？（ ）
A. 30 秒
B. 29 秒
C. 19 秒
D. 18 秒
67. 一只天平有 7 克、2 克砝码各一个，如果需要将 140 克的盐分成 50 克、90 克各一份，至少要称几次？（ ）
A. 六
B. 五
C. 四
D. 三
68. 一个人花 8 块钱买了一只鸡，9 块钱卖掉了，然后他觉得不划算，花 10 块钱又买了回来，11 块卖给另外一个人。问他赚了多少钱？（ ）
A. 3 块
B. 2 块
C. 1 块
D. 0 块
69. 某中学在高考前夕进行了四次语文模拟考试，第一次得 90 分以上的学生为 70%，第二次是 75%，第三次是 85%，第四次是 90%，请问在四次考试中都是 90 分以上的学生至少是多少？（ ）
A. 40%
B. 30%
C. 20%
D. 10%
70. 某单位每年生活用水占总用水量的 $\frac{3}{5}$ 。2010 年通过行政、技术、经济等手段加强用水管理，调整用水结构，改进用水方式，科学、合理、有计划、有重点地用水，提高水的利用率，仅生活用水一项就节约了 5000 吨，减少了 $\frac{1}{3}$ 。问该单位 2009 年总用水量是多少？（ ）

第四部分 判断推理

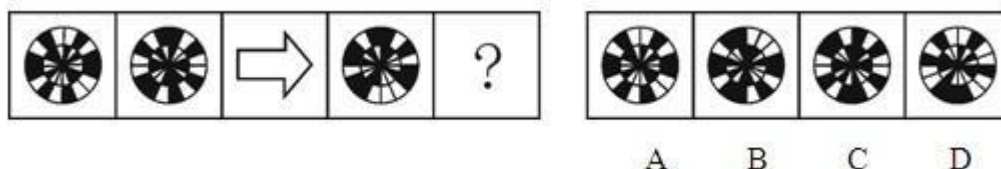
一、图形推理。请按每道题的答题要求作答。

请开始答题：


76. 下列哪个图有别于其他三个图? ()



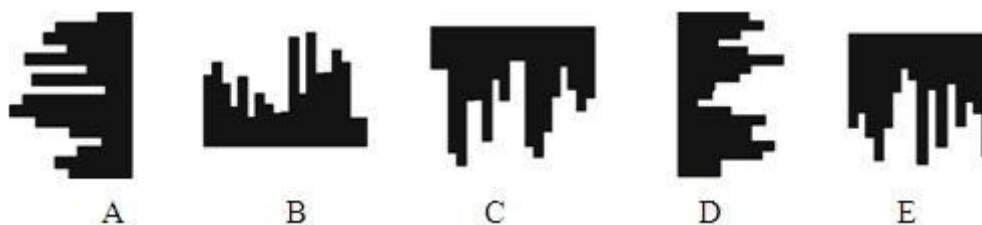
77. 按照 X 转化为 Y 的规律，问号处转化为 ABCD 中的哪一个? ()




78. 按照前四个图的排列规律，第五个图应是 ABCD 中哪一个? ()



79. 哪幅图可与图 E 结合组成正方形? ()



80. 按照前四个字母的排列规律，第五个字母应该是 ()。



二、定义判断。每道题先给出定义，然后列出四种情况，要求你严格依据定义，从中选出一个最符合或最不符合该定义的答案。注意：假设这个定义是正确的，不容置疑的。

请开始答题：

81. 民生主要是指民众的基本生存和生活状态，以及民众的基本发展机会、基本发展能力和基本权益保护的状况等。

下列哪一项不属于保障民生的行为? ()

- A. 《北京市房屋租赁管理若干规定》明确规定对房屋租赁实行登记制度
- B. 《中华人民共和国社会保险法》规定，国家通过税收优惠政策支持社会保险事业
- C. 《劳动合同法》规定，劳务派遣工应与其他员工同工同酬

- D. 《廉租房保障资金管理办法》规定，该项资金实行国库集中支付、专款专用
82. 经济作物又称技术作物、工业原料作物，指具有某种特定经济用途的农作物。广义的经济作物还包括蔬菜、瓜果、花卉等园艺作物。经济作物通常具有地域性强、经济价值高、技术要求高、商品率高等特点，对自然条件要求较严格，宜于集中进行专门化生产。
下列不属于经济作物的是（ ）。
- A. 王老大培植特色猕猴桃 B. 李老二培育玉米新品种
C. 张老三多年种植向日葵 D. 刘老四带头种植中药材
83. 心理压力是个体在生活适应过程中的一种身心紧张状态，源于环境要求与自身应对能力的不平衡，这种紧张状态倾向于通过非特异的心理和生理反应表现出来。总体说来，可以将引起压力的原因归为四类：生活事件、挫折、心理冲突和不合理的认识。
下列哪一项不利于缓解心理压力？（ ）
- A. 多赞美、鼓励自己：我行，我能，谁也比不了我
B. 闭上眼睛，尽力想身体后面的景物，平衡前后脑的压力
C. 不断告诉自己，要能容纳别人不同的观念或行为
D. 经常读一些励志的书籍、漫画及幽默文选，并认真思考
84. “给力”是中国北方的土话，表示给劲、带劲的意思。闽南话意思为很精彩、很棒的意思。2010年“给力”一词流行起来，2010年11月10日，《人民日报》头版标题《江苏给力“文化强省”》引发国内舆论热议，许多报刊纷纷效仿运用。
下列对“给力”一词运用不当的是（ ）。
- A. CPI创25个月新高，食品给力74%（《沈阳晚报》2010年11月12日）
B. 7万个亿了！财政应“给力”民生（《燕赵都市报》2010年11月12日）
C. 抗通胀工资是否能“给力”？（《成都商报》2010年11月12日）
D. 高房价给力光棍节（《东方早报》2010年11月12日）
85. 名胜古迹就是指风景优美和有古代遗迹的著名地方。中国是世界上最古老的文明国家之一，名胜古迹众多。游览这些名胜古迹，一方面可以领略祖国的大好河山，另一方面也能从中感悟祖国博大精深的历史文化。
下列不属于河北名胜古迹的是（ ）。
- A. 衡水鼻烟壶 B. 承德外八庙
C. 沧州铁狮子 D. 北戴河山海关
86. 所谓“人口红利”指的是在一个时期内生育率迅速下降，少儿与老年抚养负担均相对较轻，总人口中劳动适龄人口比重上升，从而在老年人口比例达到较高水平之前，形成一个劳动力资源相对比较丰富的黄金时期。
对“人口红利”理解不正确的是（ ）。
- A. “人口红利”是推动经济持续增长的利好因素
B. “人口红利”不意味着经济必然持续高速增长
C. 优化人口结构是保持“人口红利”的主要途径
D. 提高劳动生产率可以缓解“人口红利”的不利影响
87. 产业结构，亦称国民经济的部门结构，是指国民经济各产业部门之间以及各产业部门内部的构成。社会生产的产业结构或部门结构是在一般分工和特殊分工的基础上产生和发展起来的。研究产业结构，主要是研究生产资料和生活资料两大部类之间的关系；从部门来看，主要是研究农业、轻工业、重工业、建筑业、商业服务业等部门之间的关系，以及各产业部门的内部关系。

下列哪一项属于产业结构的要素? ()

- A. 需求结构、资源供给结构、科学技术 B. 技术结构、产业布局、产业组织、产业链
C. 主导产业、生产率、物质产品 D. 生产要素、产业划分、科技投入

88. 职业素质是指劳动者在一定的生理和心理条件的基础上, 通过教育、劳动实践和自我修养等途径而形成和发展起来的, 在职业活动中发挥重要作用的内在基本品质。

下列不属于职业素质的是 ()。

- A. 教师广博的知识和高尚的人格
B. 作家对生活敏锐的感觉力和较强的语言表达能力
C. 画家所具有的不同于一般人的颜色辨别能力和空间想象能力
D. 声乐演唱家所具有的不同于一般人的生理遗传因素

89. 根据美国反托拉斯法, 卡特尔是垄断组织形式之一, 是由生产或销售同一类产品的独立企业所构成的组织, 目的是通过控制生产和销售提高该类产品价格。参加此组织的成员为垄断市场, 获取高额利润, 通过在商品价格、产量和销售等方面订立协定而形成同盟。

下列不属于卡特尔的一项是 ()。

- A. 迫于成本核算, 各商家停止了打折竞争 B. 各生产者签订协议, 规定垄断价格
C. 各生产者签订协议, 规定生产和销售数量 D. 各生产者签订协议, 规定销售市场

90. 公共政策是指公共权力机关在对社会公共利益进行选择、综合、分配和落实的过程中依据特定时期的目标、经由政治过程所选择和制定的行为准则, 是公共权力机关为解决公共问题、达成公共目标、以实现公共利益的方案。

下列不符合这一定义的是 ()。

- A. 公共政策制定的主体是政府为主的一系列公共机构
B. 公共政策的目的在于解决公共问题和实现公共利益
C. 公共政策的选择过程就是一种公共管理活动过程
D. 公共政策就是政府对公共利益进行分配的各种方法

91. 某市政府出台该市《关于推进城乡社会救助体系建设的意见》, 意见指出, 推进城乡社会救助体系建设的基本原则之一是实施积极的就业扶持政策, 促进困难群众就业。

以下各项做法中符合这一原则的是 ()。

A. 该市人事局规定, 在每年开发的公益性就业岗位中, 优先安置低保、特困和零就业家庭等特殊困难群体的未就业高校毕业生

B. 该市教育局对义务教育阶段的城乡困难家庭子女, 免除其杂费、书本费, 并对寄宿生的生活费给予补助

C. 该市司法局规定, 对发生劳动争议的困难家庭的当事人提供诉讼、非诉讼代理以及法律咨询、代书等免费法律服务, 依法维护他们的合法权益

D. 该市中小企业发展局、工商局联合作出规定, 对近 3 年毕业的大中专学生, 允许以普通合伙的方式, 试办承担无限责任的居民服务类、科技服务类企业, 核发资金数额为 1 元、带有“公司”字样的营业执照

92. 某省发布地质灾害防治方案, 方案指出, 全省各地区、各有关部门要结合实际, 因地制宜, 突出重点, 迅速组织开展地质灾害隐患巡查排查工作, 特别要逐一排查城镇乡村等人口密集区和江河流域、交通干线、重要设施等重点区域的地质灾害隐患, 不留死角。

下列各项做法中属于贯彻执行该方案中这一要求的是 ()。

A. 甲县气象局预测, 该年度极端天气较历年偏多, 局部暴雨、冰雹等强对流天气将频繁发生, 容易造成崩塌、滑坡、泥石流、地面塌陷、地裂缝等地质灾害

B. 乙县充分发挥基层党组织和干部群众的作用，建立汛期值班等制度，并把防灾避险、监测预警的任务具体落实到城镇、乡村、学校、医院、企业等单位及相关责任人员

C. 丙县要求全县各乡、村自查自纠，发现该县某处煤矿采空区地面塌陷，危及尚未拆迁的居民房屋和公共设施以及铁路运行安全

D. 丁县建有大型水库，因而该县水利部门认真做好水库周边和河道两侧的地质灾害防治工作，严防地质灾害危及水库和河道安全及引发次生灾害

93. 某市为做好全市政府系统政务督促检查，实现政务督查工作科学化、制度化、规范化、程序化，明确规定政务督查工作的主要任务是：

- (1) 上级和本级政府及政府各部门重大决策、重大工作部署的贯彻落实情况；
- (2) 上级和本级政府及政府各部门下发的重要文件的贯彻落实情况；
- (3) 本级政府及政府各部门重要会议决定事项的贯彻落实情况；
- (4) 上级机关和本级党委转来的批办件、督查件的落实情况；
- (5) 上级和本级政府领导批办件和交办事项的落实情况。

根据上述规定，下列各项中属于该市所辖某区政府督查工作的任务的是（ ）。

- A. 市长亲自交办的该区贫困儿童洋洋减免学费事项的落实情况
- B. 市政府召开的净化中小校园周边环境会议决定的贯彻落实情况
- C. 该区东湖社区开展的洁净社区——消灭非法小广告行动落实情况
- D. 市委下发全市党员进一步深入学习科学发展观重要文件的落实情况

94. 授权性法律规则是规定主体可为或可不为一定行为以及要求其他主体为一定行为或不得为一定行为的规则。授权性法律规则是主体享有法定权利的依据，而且该类法律规则具有可选择性，主体可以行使授权性法律规则所赋予的权利，也可以放弃行使该权利。

根据上述定义，下列各项中属于授权性规则的是（ ）。

A. 我国《宪法》第 35 条规定：“中华人民共和国公民有言论、出版、集会、结社、游行、示威的自由。”

B. 我国《宪法》第 52 条规定：“中华人民共和国公民有维护国家统一和全国各民族团结的义务。”

C. 我国《刑法》第 53 条规定：“对于被判处死刑、无期徒刑的犯罪分子，应当剥夺政治权利终身。”

D. 我国《刑法》第 119 条规定：“破坏交通工具、交通设施、电力设备、燃气设备，造成严重后果的，处十年以上有期徒刑、无期徒刑或死刑。”

三、类比推理。每道题先给出一组相关的词，要求你在备选答案中找出一组与之在逻辑关系上最为贴近、相似或匹配的词。

请开始答题：

95. 物质：意识

- A. 发展：运动
- B. 权利：义务
- C. 成功：勤学
- D. 劳动：懒惰

96. 伞：雨衣

- A. 现金：支票
- B. 空调：暖气
- C. 钢笔：铅笔
- D. 蚊香：蚊帐

97. 制度：管理

- A. 文盲：教育
- B. 法律：审判
- C. 成功：竞争
- D. 警报：逃生

98. 客车：货车
 A. 居民楼：商务楼
 B. 蝌蚪：青蛙
 C. 男生：女生
 D. 遥控器：电视机
99. 警察：安全
 A. 太阳：温暖
 B. 酒吧：娱乐
 C. 乞丐：流浪
 D. 飞机：战争
100. 糖：苦
 A. 孤儿：可怜
 B. 复杂：简单
 C. 明确：模糊
 D. 美国：弱小
101. 绿色：健康
 A. 决赛：关键
 B. 尖叫：恐惧
 C. 危机：管理
 D. 警报：逃生
102. 罚单：银行
 A. 钥匙：门锁
 B. 干裂：唇膏
 C. 请帖：客户
 D. 合同：律所
103. 古诗：李白
 A. 国家：楼兰
 B. 民间艺术：手工陶艺
 C. 运动：拳击
 D. 民族冲突：加沙地带
104. 弗洛伊德：心理
 A. 厄尔尼诺：气象
 B. 唐古拉山：巅峰
 C. 中情六局：情报
 D. 超级女生：媒体

四、逻辑判断。每道题给出一段陈述，这段陈述被假设是正确的，不容置疑的。要求你根据这段陈述，选择一个答案。注意：正确的答案应与所给的陈述相符合，不需要任何附加说明即可以从陈述中直接推出。

请开始答题：

105. 附近的小区居住的几乎都是年轻人，有老人的家庭很少。但是绿柳路附近却有很多专门经营老年用品的商店，并且生意还相当不错。
 以下最能解释这一现象的是（ ）。
 A. 专门经营老年用品的商店是从绿柳路以外的批发商那里进货
 B. 居住在绿柳路附近的老年人虽然不多，但经常互相拜访
 C. 绿柳路附近的居民经常要回家探望父母，并为父母购买礼物
 D. 绿柳路附近的专门经营老年用品的商店所出售的商品物美价廉
106. 应该清醒地认识到，目前房地产市场最大的矛盾不是供需之间的矛盾，而是百姓囊中羞涩与房价不断上涨之间的矛盾。而这一问题产生的根源就在于房子被当作奇货可居、有利可图的商品，被房产商和手有余钱的业主一而再再而三地热炒。于是我们看到一些房产商宁愿把房子成片闲置也不愿平价或降价出售；某些富有的业主拥有两三套，甚至十数套房产，而大量炒房团也应运而生。
 以下最能加强上述结论的是（ ）。
 A. 经济学家近来十分关注炒房对房价上涨的影响作用
 B. 在一些内陆地区，未发生炒房现象，房价比较平稳
 C. 在一些经济发达的地区，炒房现象虽不突出，但房价仍然居高不下
 D. 一些地区拟对拥有多套房者开征土地使用费，可以有效地抑制虚假的住房需求

107. 体育馆如果在同一天既开放乒乓球室又开放羽毛球室的话，那么这一天也一定开放网球室。该体育馆星期三不开放网球室。高同学只有当开放乒乓球室的时候才去体育馆。如果上述情况都是属实的，那么以下选项正确的是（ ）。
- A. 星期三高同学不会去体育馆
 - B. 高同学不会在同一天既去学校体育馆的乒乓球室又去羽毛球室
 - C. 如果体育馆在星期三开放羽毛球室，那么这一天一定不开放乒乓球室
 - D. 体育馆在星期三不开放羽毛球室
108. 因为青年人开车容易急躁，所以，在我国尽管十八、九岁的司机只占注册司机的 7%，但是在交通死亡事故的肇事者中，他们的比例却是超过 14%。下面每一项，如果正确，都能削弱青年人开车容易急躁的观点，除了（ ）。
- A. 与其他人开的车相比，青年人开的车较旧，且稳定性也差
 - B. 青年人开车时的乘客人数很有可能比一般的司机多
 - C. 青年司机平均每年开车的距离超过其他司机的两倍
 - D. 青年人引起的交通事故比其他司机引起的交通事故严重
109. 肆意滥伐——无计划——暴雨——秃岭——山岳地带山崩——人口稀少地区——浅河——沙砾——采集。如果上述的情况同时存在，将会产生的必然后果是（ ）。
- A. 住宅需求量增加
 - B. 洪水暴发
 - C. 房屋破坏
 - D. 交通阻塞
110. 有一对年轻夫妇，都是生物学家，经常一起深入原始森林考察。有一天，他们像往常一样钻进森林，可当他们爬过那个熟悉的山坡时，顿时僵住了，一只老虎正对着他们。他们脸色苍白，一动不动，老虎也站着。僵持了几分钟时间，老虎朝他们走来，然后开始小跑，越跑越快。就在这时，那个男的突然大喊一声，然后自顾自地飞快跑开。奇怪的是，跑到那女的面前的老虎也突然改变方向，朝那男的追过去。随后那边就传来惨叫声，而那女的却平安逃回来。事情的原因最可能的是（ ）。
- A. 老虎专咬自私的人
 - B. 老虎专咬逃跑的人
 - C. 老虎把男的当成了动物
 - D. 老虎习惯咬活动的动物

第五部分 资料分析

针对下列图、表或文字回答问题。你应根据资料提供的信息进行分析、比较、计算、处理。你可以在题本上运算。

一、根据以下资料，回答问题。

《河北省 2010 年国民经济和社会发展统计公报》显示：2010 年农业生产形势稳定。全年粮食播种面积 628.2 万公顷，比上年增加 6.6 万公顷，增长 1.1%；总产量 2975.9 万吨，增长 2.3%。其中，夏粮产量 1243.7 万吨，增长 0.04%；秋粮产量 1732.2 万吨，增长 3.9%。全年棉花播种面积 58.2 万公顷，减少 6.2%；总产量 57.0 万吨，减少 5.8%；全年油料播种面积 46.4 万公顷，减少 6.5%，总产量 140.3 万吨，减少 2.1%；全年蔬菜播种面积 113.9 万公顷，增长 3.4%，总产量 7073.6 万吨，增长 4.9%，其中设施蔬菜播种面积 28.7 万公顷，增长 31.9%，产量 1765.7 万吨。全年肉类总产量 416.8 万吨，下降 2.3%；生猪年末存栏 1846 万头，减少 6.2%；生猪出栏 3222.9 万头，减少 3.3%；牛奶产量 439.8 万吨，减少 2.6%；禽蛋产量 339.1 万吨，减少 4%。全年水产品产量 106.3 万吨，增长 5.9%。其中，养殖水产品产量 71.8 万吨，增长 8.3%；捕捞水产品产量 34.5 万吨，增长 1.3%。

农业基础设施得到加强。全年新增有效灌溉面积 5.4 万公顷，新增节水灌溉面积 14.7 万公顷。机耕面积 531.7 万公顷，占农作物播种面积的比重达 61.0%，比上年提高 0.5 个百分点；当年机械播种面积 627.5 万公顷，占 72.0%，提高 0.8 个百分点；机械收获面积 342.9 万公顷，占 39.3%，提高 3.1 个百分点。

111. 2010 年河北省农作物播种面积为（ ）。

- A. 12705 万亩
- B. 13075 万亩
- C. 847 万公顷
- D. 13075 万公顷

112. 2009 年河北省粮食平均亩产为（ ）。

- A. 300 公斤
- B. 310 公斤
- C. 350 公斤
- D. 400 公斤

113. 已知 2009 年全省设施蔬菜产量为 1268 万吨，则 2010 年同比增长（ ）。

- A. 39.2%
- B. 63.6%
- C. 139.2%
- D. 163.6%

114. 2009 年肉类总产量为（ ）。

- A. 407.5 万吨
- B. 410.2 万吨
- C. 420.1 万吨
- D. 426.6 万吨

115. 与 2009 年相比，2010 年机耕面积增加了（ ）。

- A. 2.65 万公顷
- B. 2.66 万公顷
- C. 2.67 万公顷
- D. 2.68 万公顷

二、根据以下资料，回答问题。

《河北省 2010 年国民经济和社会发展统计公报》显示：河北省 2010 年全年城镇居民人均可支配收入达 16263.4 元，比上年增长 10.5%。农民人均纯收入达 5958 元，增长 15.7%。城镇居民人均消费支出 10318.3 元，增长 6.6%；农民人均生活消费支出 3845 元，增长 14.8%。城镇居民家庭恩格尔系数（即居民家庭食品消费支出占家庭消费支出的比重）为 32.3%，比上年下降 1.3 个百分点；农村居民家庭恩格尔系数为 35.2%，比上年下降 0.5 个百分点。

