

第一部分 常识判断

根据题目要求，在四个选项中选出一个最恰当的答案。

请开始答题：

1. 古人把东、北、西、南四方每一方想象为四种动物形象，叫做四象。四象在中国传统文化中指青龙、白虎、朱雀、玄武，分别代表东西南北四个方向。它源于中国古代的（ ）。
A. 图腾崇拜
B. 远古传说
C. 炼丹术
D. 星宿信仰
2. 当人们站在北京颐和园昆明湖南岸的垂柳下观赏万寿山远景时，万寿山因为有倒挂的柳丝作为装饰而生动起来。这种构景手段称为（ ）。
A. 抑景
B. 添景
C. 对景
D. 借景
3. 下面不属于我国的五大古都的是（ ）。
A. 开封
B. 北京
C. 咸阳
D. 南京
4. 有氧运动是指人体在氧气充分供应的情况下进行的体育锻炼。即在运动过程中，人体吸入的氧气与需求相等，达到生理上的平衡状态。关于有氧运动，下列说法错误的是（ ）。
A. 是不是“有氧运动”，衡量的标准是心率
B. 有氧运动强度低，有节奏，持续时间较长
C. 有氧运动越多越好
D. 快走、慢跑、游泳、健身操、骑自行车等项目属于有氧运动
5. 今年两会上，针对药价虚高问题，某政协委员指出，原因在于实际上是药贩子跟政府打交道——这是最可悲的现象。该政协委员在这里讲的药价虚高的原因是（ ）。
A. 缺少对药品的中央垂直管理
B. 药品规格混乱
C. 药品质量监督监察体制不健全
D. 药品市场流通不合理、不规范
6. 很多人认为夫妻吵架、动手纯属家务事，外人不应干涉更无权干涉。不仅如此，就连公安机关也在“清官难断家务事”的传统思想影响下，对于家庭暴力的投诉处理简单、轻率，有的甚至根本不管。这种认识属于（ ）。
A. 法律思想体系
B. 刑法意识
C. 法律心理
D. 阶层法律意识
7. 共和制作为一种国家最高权掌握在由选举产生，并有一定任期的国家机关或公职人员手中的政权组织形式。“共和”一词来源于拉丁语 *respublica*，意思是“公共事务”。共和制是指国家的权力机关和国家元首由选举产生并有一定任期的政权组织形式。共和政体区别于君主政体，而且是作为君主政体的相对面而存在的。关于共和制的说法，正确的是（ ）。
A. 中国历史上的“周召共和”是现代共和制的雏形
B. 美国是历史上实行总统共和制的典型国家
C. 法国实行的是议会制共和制
D. 罗马由共和制转变为帝制的主要原因是人民的要求
8. 2012年2月，国务院同意发布新修订的《环境空气质量标准》增加了PM2.5监测指标。PM2.5是指大气中直径小于或等于25微米的颗粒物，也称为可入肺颗粒物。关于PM2.5的说法不正确的是（ ）。
A. PM2.5产生的主要来源，是日常发电、工业生产、汽车尾气排放等过程中经过燃烧而排放的残留物

- D. 不满十八周岁的未成年人犯罪，应当从轻或者减轻处罚
17. 温家宝总理在作政府工作报告时提出，今年国内生产总值增长 7.5%。这是我国国内生产总值（GDP）预期增长目标八年来首次低于 8%。对于这一目标的调整，说法错误的是（ ）。
- A. 中国经济要硬着陆
 - B. 适当放缓经济增速能形成倒逼机制，加快经济转型和体制创新
 - C. 速度低一点可以缓解供求矛盾、缓解资源与环境的约束、缓解物价上涨的压力
 - D. 主要是要与“十二五”规划目标逐步衔接，引导各方面把工作着力点放到加快转变经济发展方式、切实提高经济发展质量和效益上来，以利于实现更长时期、更高水平、更好质量发展
18. “政策好、人努力、天帮忙”——近八年来，这九个字成为我国粮食丰收的“秘诀”，农业官员每年都会挂在嘴边。这表明当前（ ）。
- A. 农业产业化、组织化程度已经很高
 - B. 粮食丰收的根本原因是政策好
 - C. 现代农业体系已经建立
 - D. 虽连年丰收，但仍未能摆脱“靠天吃饭”的传统农业形象
19. 下列关系中，可以在同一机关担任有直接上下级领导关系的职务的是（ ）。
- A. 公务员之间有夫妻关系
 - B. 公务员之间是同学关系
 - C. 公务员之间有直系血亲关系
 - D. 公务员之间有近姻亲关系
20. 按今年中央 1 号文件中明确的“持续加大财政用于‘三农’的支出”，“十二五”期间中央财政对“三农”的支持将在去年 1 万亿元的基础上逐年递增，而投入的方向除了重点加大对种粮农民“四补贴”之外，新增补贴将向包括粮食在内的主要农产品重点大县、农业产业化龙头企业、种养大户和农民专业合作社倾斜。从政治常识角度，这体现了（ ）。
- A. 外因是事物发展不可忽视的条件
 - B. 农业基础地位不可动摇
 - C. 国家的经济职能
 - D. 财政的作用

- C. 无所谓
D. 态度不明确
38. 谁也无法否认在他面前没有克服不了的困难。
他究竟能不能克服所有困难? ()
A. 能
B. 不能
C. 不清楚
D. 无关紧要
39. 国家海关总署负责人驳斥了中国加入 WTO 后关税减收的影响应该降到最低程度的反对意见。
该负责人对关税减收的影响持什么态度? ()
A. 应该最大限度地缩小其影响
B. 应该最大限度地扩大其影响
C. 无所谓态度
D. 态度不明确
40. “公司董事会对生产厂长提出的关于在下个月削减产量, 进行质量整改, 待产品质量稳定后再进行大规模生产的建议予以否决。”
公司董事会对生产的态度是 ()。
A. 增加产量
B. 进行质量整改, 提高产量
C. 增加产量, 不进行质量整改继续生产
D. 削减产量但不进行质量改革
41. 下列句子中, 成语使用正确的一项是 ()。
A. 大家就环保问题缘木求鱼, 踊跃发言, 热烈讨论, 已经预示着此次研讨会将获得巨大的成功。
B. 暴雨导致山体滑坡, 大量房屋塌陷, 解放军战士明火执仗, 在深山老林里寻找幸存者的下落。
C. 日本侵略者的士气受到巨大重创, 众多迹象集中显示其最主要的原因是师出无名, 不得人心。
D. 改革开放三十年来, 电子技术企业经过革新, 产量和质量迅速上升, 收到了事倍功半的效果。
42. 下列句子中, 有歧义的一项是 ()。
A. 没有人愿意说出这个秘密。
B. 组织上已经调查过黄主任。
C. 教育局采取了我们的建议。
D. 我特别喜欢早晨起来看书。
43. 家族企业代际传承首先需要解决的问题是接班人的选择, 也就是从家族内部选择还是从外部选拔接班人。从中国大陆家族企业的传承案例来看, “子承父业”仍是国内许多家族企业首选的交接班模式。华人家族企业选择“子承父业”的传承模式的原因在于华人家族传统文化中对血缘的重视和信任, 以及华人社会低信任度的文化特点。
这段文字不支持的表述是 ()。
A. 从案例推断, 华人家族企业“子承父业”并非代际传承的唯一模式
B. “子承父业”的交接班模式, 就是传男不传女
C. 华人家族企业选择“子承父业”是缘于对外人的不信任及血浓于水的亲情
D. 家族企业代际传承首先要解决的问题, 是“传子”还是“传贤”的问题
44. 我国的幼儿园教育普遍存在“小学化”现象。造成幼教“小学化”原因是多方面的。一方面是家长“望子成龙”的心理, 另一方面就是不少幼儿园迎合家长心理需求以多揽生源、多赚钱。另外, 入学测试也是幕后“推手”之一。因此, 要整治幼儿园“小学化”现象, 还是依靠制度发力。试想, 在许多家长心存“学到东西”的错误观念驱使下, 在生源激烈竞争的倒逼下, 若没有硬性的制度要求, 有多少幼教老师能坚守自己的教育理念和专业水准?
依据文意, 下列不属于幼儿园教育“小学化”原因的一项是 ()。
A. 小学入学测试
B. 家长“望子成龙”、“望女成凤”

49.2009 年是中国儿童福利发展的重要一年。民政部根据我国孤儿在整个社会保障群体中数量少、比例小、生存状况困难、甄别容易的情况，努力同国际接轨，在建立独立的孤儿福利津贴制度方面做出了重大的努力和突破，大大提高了孤儿救助的标准。

对这段文字理解不正确的是（ ）。

- A. 民政部门是儿童福利工作的责任主体之一
- B. 将孤儿福利津贴制度从儿童福利津贴制度中独立出来是与国际接轨
- C. 与其他社会保障群体比较，孤儿的身份容易认定
- D. 孤儿，因其数量少、比例小而得到了较高标准的救助

50. 构成我们学习上最大障碍的，不是未知的东西，而是已知的东西。

这句话的含意是（ ）。

- A. “已知的东西”不是一劳永逸的，只有经常复习，才能获得新知
- B. 对“已知的东西”学得不好，理解不深就会构成学习上的障碍
- C. 如果只满足于“已知的东西”，不再进取，就会陷入无法长进的可悲境地
- D. “已知的东西”是基础，对“已知的东西”掌握不扎实，就会影响新知识的获得，应加强对

“已知的东西”的复习巩固

零点集团针对全国 30 个直辖市或省会城市居民的环保意识和环保行为，进行了“中国公众环保指数”调查。2010 年中国公众环保指数得分为 69.5 分，较之 2005 年（68.1 分）和 2007 年（69.1 分）维持稳定局面，但仍未破七，当前大的环保环境和公众环保内驱力还没有达到足以产生变革的度点。可喜的是，西部城市公众环保指数以 69.4 分紧随东部之后（70.3 分），成为 2010 年环保指数的亮点。进一步研究发现，西部公众主要赢在社会参与型环保的行为率高，高出东部和中部公众 10 分以上。

由于当前中国政府的行政特征、表现力及公众环保水平的发展阶段，使得我国的公众环保表现出两项内生性矛盾。

矛盾一：73.2%的公众在经济发展和环境保护中会优先选择环境保护，环保选择具有压倒性优势；另外认为我国环保已经紧迫的公众比例将近九成（86.8%），但在具体环保事项上，公众的环保意识表现不一，人们的高环保意识主要集中在家庭生活层面，如将生活垃圾分类、节约水电等，分别有 59.6%和 53.7%认为它们是环保行为，而在办公场所和社会参与层面的环保意识相对较低。进一步研究发现，如果落实在行为层面上，在 20 项环保行为中，二分之一的环保行为采取率都在 30%以下，尤其是社会参与方面，环保行动力明显弱化。

矛盾二：对于环保问题的责任归属，72.3%的公众认为应该由政府负责，但对目前我国的环保状况，表示满意的比例不及四成（39.4%），尤其是 18—25 岁的青年（32.8%）及学生（23.8%）。而对此，仍有 54.6%的公众对政府工作表示认可。公众表现出的这种矛盾认识正体现出中国公众的政府依赖习惯，而这种习惯是不以政府的环保力强弱为基础的。

当然，这几年我国公众环保也表现出一些新的气象，从这些新气象中，我们可以大胆假设未来中国公众环保的两个趋势。

趋势一：在联合国公布的十大环保问题中，46.1%的公众表示关注全球气候变暖，关注度仅次于大气污染（72%）和水污染（69.7%），因此，低碳作为减缓气候变暖的最直接行为，将具有更加坚实的公众基础。进一步研究发现，在生活中可以实现低碳的行为方面，如节约水电（64.8%）、购买节能电器（52.7%）等，公众的行为采取率均相对较高。当然，公众低碳时代的到来，需要政府的监管及市场的配合，只有做到三合一，才能让低碳真正成为一种内在的生活方式。

趋势二：根据中国环保联合会发布的数据，我国民间环保组织的数量几年来有明显增加，未来趋势会更明朗，而这依赖于公众对环保组织工作的认可（61.6%），一直在政府、企业和公众等不同环保主体中居首，尤其是近年来环保问题严重的西部，这一比例相对更高为65%。进一步研究发现，不同年龄公众不参加环保活动的首要因素都是“没人组织我参加”，这为未来环保组织的发展指明了方向。当然，对于18—25岁青年来说，增加环保组织信任度和透明度（分别为25.6%和28.9%）也相对较为迫切。

51. 下列各句有语病的一项是（ ）。

A. 由于当前中国政府的行政特征、表现力及公众环保水平的发展阶段，使得我国的公众环保表现出两项内生性矛盾

B. 不同年龄公众不参加环保活动的首要因素都是“没人组织我参加”

C. 对于环保问题的责任归属，72.3%的公众认为应该由政府负责，但对目前我国的环保状况，表示满意的比例不及四成

D. 公众表现出的这种矛盾认识正体现出中国公众的政府依赖习惯，而这种习惯是不以政府的环保力强弱为基础的

52. 对“矛盾一”概括准确的一项是（ ）。

A. 经济发展和环境保护的矛盾

B. 环保意识与环保行动力的矛盾

C. 家庭生活层面的高环保意识与社会参与层面的低环保意识之间的矛盾

D. 家庭生活层面的高环保意识与办公场所层面的低环保意识之间的矛盾

53. 由“矛盾二”的内容可以推出的结论是（ ）。

A. 政府更需提高环保执行水平，注重环保效率与效果

B. 对目前我国的环保状况，表示不满意的比例为60.6%

C. 72.3%的公众对政府有依赖习惯

D. 政府依赖习惯以政府的积极环保态度为基础

54. 第6段中，不能作为“低碳真正成为一种内在的生活方式”的条件的一项是（ ）。

A. 生活中的低碳行为

B. 政府的监管及市场的配合

C. 市场的配合

D. 公众对环保问题的关注

55. 最后一段认为，中国公众环保的发展趋势是（ ）。

A. 公众对环保组织工作的认可越来越高

B. 环保组织的急剧发展

C. 公众的环保活动将越来越组织化

D. 环保组织的信任度和透明度将越来越高

第三部分 数量关系

在这部分试题中，每道题呈现一段表述数字关系的文字，要求你迅速、准确地计算出答案。

请开始答题：

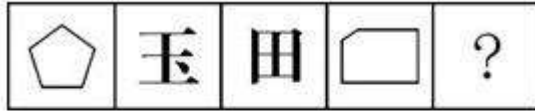
56. 0, 0, 2, 12, ()
A. 8
B. 36
C. 12
D. 32
57. 2, 11, 32, ()
A. 56
B. 42
C. 71
D. 134
58. $1/2, 5/7, 11/16$ ()
A. $11/21$
B. $17/33$
C. $19/29$
D. $26/37$
59. 0.2, 4.04, 20.008, ()
A. 48.0032
B. 40.0032
C. 54.0016
D. 61.0214
60. 4.5, 8, 10.5, ()
A. 11
B. 14
C. 14.5
D. 16.5
61. 在偏远山区某小学，老师正在发放教科书，只购买了 65 本教科书，需要每两个学生合用一本数学书，每三个学生合用一本语文书，每四个学生合用一本英语书。学生数为 ()。
A. 24
B. 60
C. 48
D. 52
62. 某蔬菜种植基地有甲、乙两个圆柱形蓄水池，它们的底面积之比为 4 : 3，甲池中水深 8m，乙池中水深 5m，再往两个蓄水池注入同样多的水，直到两个蓄水池水深相等，则甲蓄水池的水面上升 ()。
A. 12m
B. 18m
C. 9m
D. 6m
63. 一个容器内有一定量盐水，第一次加入适量水后，容器内盐水浓度为 3%，第二次再加入同样多水后，容器内盐水浓度为 2%，则第三次加入同样多的水后盐水浓度为 ()。
A. 0.5%
B. 1%
C. 1.2%
D. 1.5%
64. 老张 7 月份出差回来后，将办公室的日历连续翻了 10 张，这些日历的日期之和为 265。老张几号上班? ()
A. 20
B. 4
C. 2
D. 1
65. 某人将 8000 元钱存入银行，存定期 3 年，到期时他将本钱和利息共计 9824 元取回，则此种储蓄的年利率是 (按利息的 20% 收利息税)? ()
A. 7.5%
B. 8.5%
C. 9%
D. 9.5%

第四部分 判断推理

一、图形推理。请按每道题的答题要求作答。

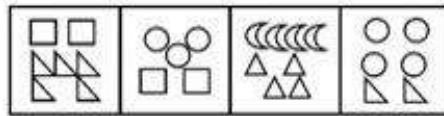
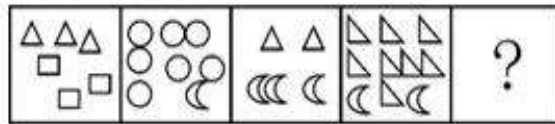
请开始答题

66. 每道题包含问题图形和可供选择的四个图形。请选出最合适的一项（ ）。



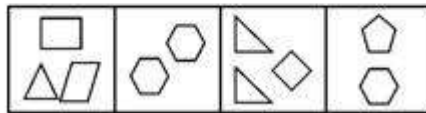

A B C D

67. 每道题包含问题图形和可供选择的四个图形。请选出最合适的一项（ ）。



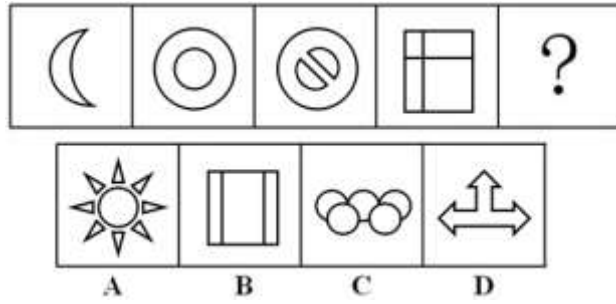
A B C D

68. 每道题包含问题图形和可供选择的四个图形。请选出最合适的一项（ ）。

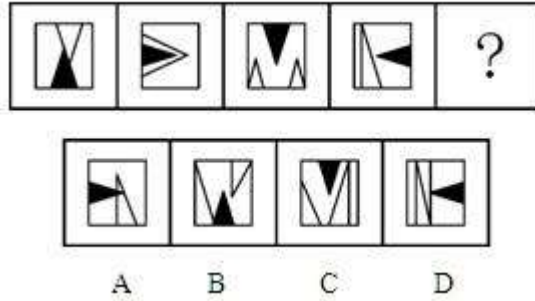


A B C D

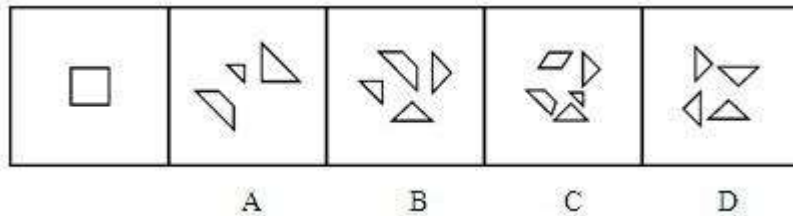
69. 每道题包含问题图形和可供选择的四个图形。请选出最合适的一项（ ）。



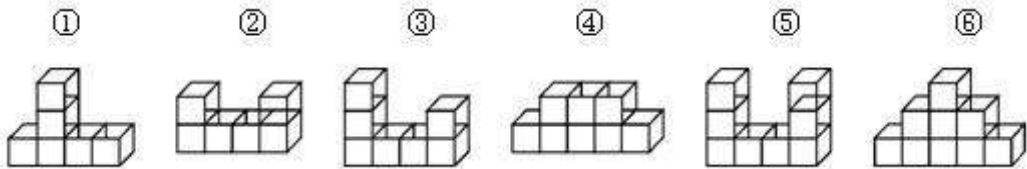
70. 每道题包含问题图形和可供选择的四个图形。请选出最合适的一项 ()。



71. 对照左边的图形, 不能由它分割成的是 ()。




72. 把下面的六个图形分为两类, 使每一类图形都有各自的共同特征或规律, 分类正确的一项是 ()。



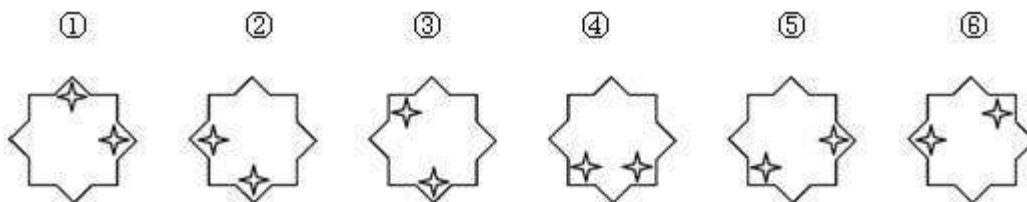
- A. ①②⑤, ③④⑥
B. ①③④, ②⑤⑥
C. ①④⑥, ②③⑤
D. ①④⑤, ②③⑥

73. 把下面的六个图形分为两类, 使每一类图形都有各自的共同特征或规律, 分类正确的一项是 ()。



- A. ①②③, ④⑤⑥
B. ①③⑤, ②④⑥
C. ①④⑥, ②③⑤
D. ①④⑤, ②③⑥

74. 把下面的六个图形分为两类, 使每一类图形都有各自的共同特征或规律, 分类正确的一项是 ()。



- A. ①②⑥, ③④⑤
 B. ①④⑤, ②③⑥
 C. ①③⑥, ②④⑤
 D. ①②④, ③⑤⑥

75. 把下面的六个图形分为两类, 使每一类图形都有各自的共同特征或规律, 分类正确的一项是 ()。



- A. ①②⑥, ③④⑤
 B. ①③⑤, ②④⑥
 C. ①④⑤, ②③⑥
 D. ①⑤⑥, ②③④

二、定义判断。每道题先给出定义, 然后列出四种情况, 要求你严格依据定义, 从中选出一个最符合或最不符合该定义的答案。注意: 假设这个定义是正确的, 不容置疑的。

请开始答题:

76. 自助行为是指权利人受到不法侵害之后, 为保全或者恢复自己的权利, 在情势紧迫而不能及时请求国家机关予以救助的情况下, 依靠自己的力量, 对他人的财产或自由施加扣押、拘束或其他相应措施的行为。

依据上述定义, 下列行为中属于自助行为的是 ()。

- A. 高某住在某旅店, 住店 5 天未付房钱就要离开旅店去车站, 旅店服务员见状揪住高某不让其走, 并打报警电话
 B. 甲趁乙不在的时候将乙家的玻璃砸碎, 乙得知后也到甲家中将其同样规格型号的玻璃砸碎
 C. 陈某抢劫出租车司机李某, 用匕首刺李某一刀, 强行抢走财物后下车逃跑。李某发动汽车追赶, 在陈某往前跑了 40 米处将其撞成重伤并夺回财物
 D. 甲为救助自家和邻居被突袭而来的洪水所围困的财物, 未经乙同意, 使用乙的小船

77. 聚合思维是指从已知信息中产生逻辑结论, 从现成资料中寻求正确答案的一种有方向、有条理的思维方式, 是从不同来源、不同材料、不同层次探求出一个正确答案的思维方法。因此, 聚合思维对于从众多可能性的结果中迅速做出判断, 得出结论是最重要的。

依据上述定义, 下列行为中属于聚合思维的是 ()。

- A. 人类失去联想, 世界将会怎样?
 B. 浮想联翩, 夜不能寐
 C. 甲 > 丙, 甲 < 乙, 乙 > 丙, 乙 < 丁, 其结果必然是丙 < 丁
 D. 巴金的《灯》由“眼前的灯”到“回忆的灯”再到“联想的灯”, 最后归结为“灯光是不会灭的”
78. 责任分散效应也称为旁观者效应, 是指对某一件事来说, 如果是单个个体被要求单独完成任务, 责任感就会很强, 会作出积极的反应。但如果是要求一个群体共同完成任务, 群体中的每个个体的责任感就会很弱, 面对困难或遇到责任往往会退缩。因为前者独立承担责任, 后者期望别人多承担点儿责任。

如果上面定义为真, 则下列现象中, 不属于责任分散效应的是 ()。

A. 事业单位的某些工作人员在上班期间就三件事：喝茶、抽烟、看报纸。上面下达任务以后，各个部门互相推脱，变成了“踢足球”的游戏

B. 一个很干净的地方，人们不好意思丢垃圾，但是一旦地上有垃圾出现之后，人就会毫不犹豫地抛，丝毫不觉羞愧

C. 2011年10月13日，2岁的小悦悦（本名王悦）在佛山南海黄岐广佛五金城相继被两车碾压，7分钟内，18名路人路过但都视而不见，漠然而去

D. 一些政府部门在投资决策环节上出现了决策失误，但是造成的责任后果却无人分担

79. 偶遇抽样：是研究在一定的时间、地点、环境中遇到或接触到的人均选入样本的方法。配额抽样：按照调查对象的某种属性，将总体中的所有个体分为若干类或层，然后在各层中按其在总体中的相应比例非随机的抽取样本。整体抽样：是将总体分成许多群，每个群由个体按一定方式结合而成，然后随机地抽取若干群，并由这些群中的所有个体组成样本。

下列情形中，属于配额抽样的是（ ）。

A. 要研究退休老人的生活，可以清晨到公园去结识几位散步老人，再通过他们结识其朋友，不用很久，就可以交上一大批老年朋友

B. 调查三百个老人每天锻炼的时间，对每个老人都进行调查

C. 某高校有2000名学生，其中男生占60%，女生占40%；文科学生和理科学生各占50%；一年级学生占40%，二年级、三年级、四年级学生分别占30%、20%和10%。现要依上述三个变量抽取一个规模为100人的样本

D. 为了调查某市的交通情况，研究者到离他们最近的公共汽车站，把当时正在那里等车的人选作调查对象

80. 完全竞争又称纯粹竞争，是一种不受任何阻碍和干扰的市场结构，指那些不存在足以影响价格的企业或消费者的市场。是经济学中理想的市场竞争状态。完全竞争是这样一种市场结构，在其中同质的商品有很多卖者，没有一个卖者或买者能控制价格，进入很容易并且资源可以随时从一个使用者转向另一个使用者。

根据上述定义，下列最接近完全竞争市场的是（ ）。

A. 自行车市场

B. 鸡蛋市场

C. 烟草市场

D. 服装市场

81. 非营利组织是指不是以营利为目的的组织，它的目标通常是支持或处理个人关心或者公众关注的议题或事件。非营利组织所涉及的领域非常广，涉及艺术、慈善、教育、政治、宗教、学术、环保等领域。非营利组织的运作并不是为了产生利益，这一点通常被视为这类组织的主要特性。

依据上述定义，下列不属于非营利组织的是（ ）。

A. 少林寺

B. 希望工程基金会

C. 民办高校

D. 中国民间组织管理局

82. 中性犯罪动机，是指对社会不具有卑鄙、下流等道德沦丧性质的个人犯罪动机。如因怜悯、同情亲友或因被害人的不正当行为而感到屈辱、羞耻，以及因迷恋某物品或某种活动而导致犯罪。这类犯罪既不同于卑鄙犯罪动机，也不同于对社会有益的行为动机。

依据上述定义，下列行为中行为人的犯罪动机属于中性犯罪动机的是（ ）。

A. 齐某因不堪忍受父母经常吵架而对生活绝望，遂产生弑杀父母的想法，趁父母熟睡之机杀害了父母

B. 张某因迷恋女性内衣，偷偷潜入内衣店，盗走价值5000元的名牌内衣

C. 宋某因女友与自己分手，另结新欢，而砍伤女友

D. 犯罪嫌疑人龚某持刀抢劫一辆“黑车”后自首，而其犯罪动机令人瞠目结舌，竟是想进监狱戒掉赌瘾

83. 生物群落是指生活在一定地区内的有机体包括植物、动物、微生物相互结合在一起，以多种多样的方式彼此发生作用，形成一种有规律的特殊集体。换句话说，生物群落是各种生物种群在同一特定的空间或环境范围内的自然组合，反映了该空间范围的典型自然面貌。依据上述定义，

下列情形中，属于生物群落的是（ ）。

- A. 海洋中的全部鱼
- B. 一个草地中的全部蛇
- C. 潮湿的农贸市场上的鸡、鸭、鱼、青菜、蘑菇等
- D. 一个池塘的藻类、细菌、蚌、水生昆虫等全部生物

84. 公共物品是指公共使用或消费的物品。公共物品是可以供社会成员共同享用的物品，严格意义上的公共物品具有非竞争性和非排他性。所谓非竞争性，是指某人对公共物品的消费并不会影响别人同时消费该产品及其从中获得的效用，即在给定的生产水平下，为另一个消费者提供这一物品所带来的边际成本为零。所谓非排他性，是指某人在消费一种公共物品时，不论他们是否付费都不能排除其他人消费这一物品，或者排除的成本很高。

依据上述定义，下列物品中不属于公共物品的是（ ）。

- A. 商场中出售的电冰箱
- B. 警察提供的安全服务
- C. 公园
- D. 公共图书馆

85. 不可抗力是一项免责条款，是指买卖合同签订后，不是由于合同当事人的过失或疏忽，而是由于发生了合同当事人无法预见、无法预防、无法避免和无法控制的事件，以致不能履行或不能如期履行合同，发生意外事件的一方可以免除履行合同的责任或者推迟履行合同。

依据上述定义，下列情形中不属于不可抗力的是（ ）。

A. 某家具厂向某木材供应站订购了一批木材，但约定的交货日期到来时，木材供应站未能按期交货。两天后，因该地区遭遇罕见山洪，木材供应站所储存的全部木材被山洪冲走。家具厂因此停工待料 10 天，造成损失 5 万元

- B. 某政府网站遭遇黑客攻击，陷入瘫痪
- C. 因快递公司员工罢工，李某的邮件未能及时收到

D. 杨某在大雾弥漫的早晨骑车上班途中，被一辆疾驰而过的汽车撞倒，造成医疗费、误工费、交通费等 4000 多元的损失。事后杨某向肇事司机索赔，司机却称事故的发生是由于大雾所致，属于不可抗力，所以他不应承担赔偿责任

三、逻辑判断。每道题给出一段陈述，这段陈述被假设是正确的，不容置疑的。要求你根据这段陈述，选择一个答案。注意：正确的答案应与所给的陈述相符合，不需要任何附加说明即可以从陈述中直接推出。

请开始答题：

86. 只要做到依法治国并且真正以人为本，就能彻底解决拖欠民工工资问题。根据 2004 年春节期间的一项调查显示，有些地方拖欠民工工资现象仍旧存在。

由此可见（ ）。

- A. 有些地方没有以人为本
- B. 有些地方以人为本
- C. 有些地方既没有依法治国，也没有以人为本
- D. 有些地方或者没有依法治国，或者没有以人为本

87. 唐诗宋词不是一年半载能读完的，唐代诗人王维的主要作品是诗歌，《王右丞集》是王维的作品。
由此可见（ ）。
- A. 《王右丞集》不是一年半载能读完的 B. 王维的作品不是一年半载能读完的
C. 唐诗宋词中包括王维的作品 D. 王维的主要作品是《王右丞集》
88. 在心泉乡发展研讨会上，王书记认为：“或者发展养蚕业，或者发展畜牧业。”周乡长认为：“心泉乡人多地少，应加强劳动力培训，大力开发对外劳务输出。”李书记认为：“只有发展特殊作物种植，才是山乡心泉的唯一出路。”张乡长认为：“充分发挥心泉优势，发展旅游业，别无选择。”
经过专家论证，上述四位的意见有两位被认为是可行的，那么意见可行的两位是（ ）。
- A. 王书记和周乡长 B. 王书记和李书记
C. 李书记和周乡长 D. 李书记和张乡长
89. 只有坚持科学发展观，才能实现可持续发展。为了子孙后代，我们必须实现可持续发展。
由此可见（ ）。
- A. 我们必须加大宣传，重视环境保护
B. 实现可持续发展必须和科学管理相结合
C. 为了子孙后代，我们必须坚持科学发展观
D. 只要坚持科学发展观，就一定能实现可持续发展
90. 赵科长和钱科长的能力比孙处长强，李处长的能力不如孙处长，而孙处长的能力又不如周处长。
请问哪位能力最差？（ ）
- A. 赵科长 B. 李处长
C. 周处长 D. 孙处长
91. 不可能所有的人都成为公务员。
由此可见（ ）。
- A. 有的人必定成为公务员 B. 只有少部分人将成为公务员
C. 必定有些人不能成为公务员 D. 所有的人都不能成为公务员
92. 在一次研讨会上，经过统计参加会议的 12 人，有 1 人认识所有的人，有 2 人认识 6 人，有 3 人认识 5 人，有 5 人认识 3 人。
由此可见（ ）。
- A. 参加会议的都相互认识 B. 会长认识所有的人
C. 有些人认识对方，但对方不认识他 D. 有些人是通过别人介绍认识的
93. 如果日本成为常任理事国，那么德国、印度和巴西也都成为常任理事国。
由此可见（ ）。
- A. 如果日本没有成为常任理事国，那么德国、印度和巴西至少有一国没有成为常任理事国
B. 如果日本没有成为常任理事国，那么德国、印度和巴西都没有成为常任理事国
C. 如果德国、印度和巴西都成为了常任理事国，那么日本也成为了常任理事国
D. 如果德国没有成为常任理事国，那么印度和日本不会都是常任理事国
94. 《冷山》《海底总动员》和《十面埋伏》不可能都获得奥斯卡奖。
由此可见（ ）。
- A. 如果《冷山》得奖，那么《十面埋伏》就没有得奖
B. 如果《海底总动员》和《十面埋伏》没有得奖，那么《冷山》就得奖

C. 如果《冷山》没得奖，那么《海底总动员》《十面埋伏》至少有一个得奖

D. 如果《冷山》《十面埋伏》得奖，那么《海底总动员》就没得奖

95. 根据统计，有些干部有见义勇为行为，有些干部廉洁自律，有些干部既生活简朴又工作热情。由此可见（ ）。

A. 有些干部既有见义勇为行为又工作热情

B. 有些干部既有见义勇为行为又廉洁自律

C. 有些干部既廉洁自律又生活简朴

D. 有些干部生活简朴并且工作热情

第五部分 资料分析

针对下列图、表或文字回答问题。你应根据资料提供的信息进行分析、比较、计算、处理。你可以在题本上运算。

请开始答题：

一、根据以下资料，回答问题。

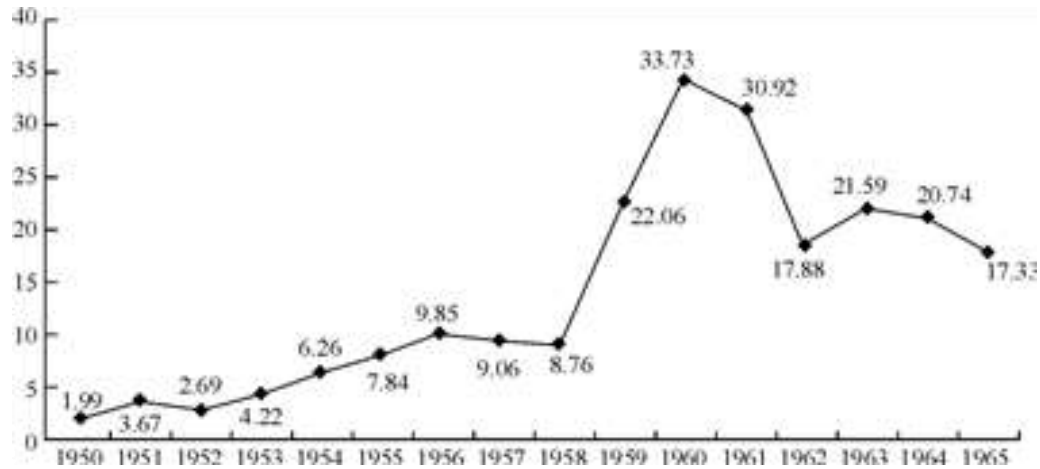


图1 支援农村生产支出和农林水利气象等部分的事业费（亿元）

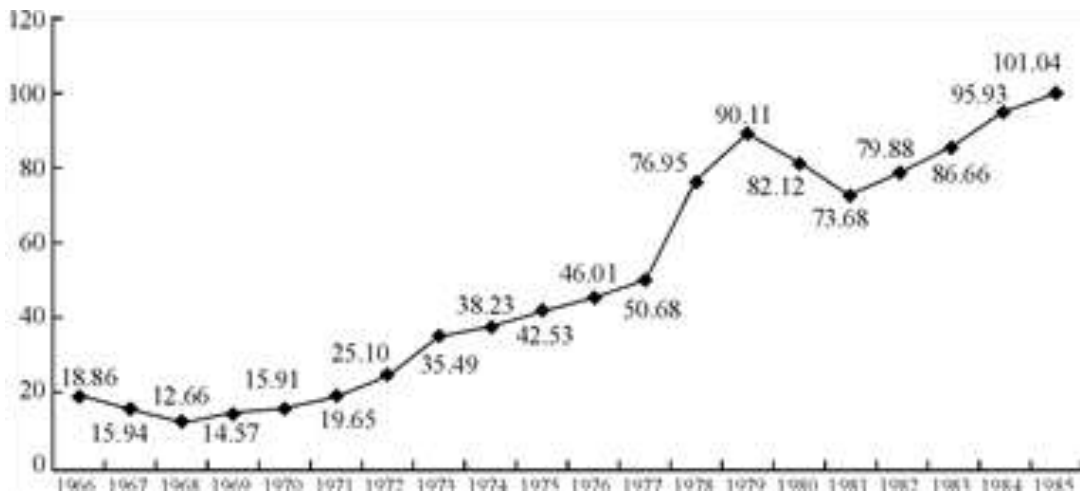


图2 支援农村生产支出和农林水利气象等部分的事业费（亿元）

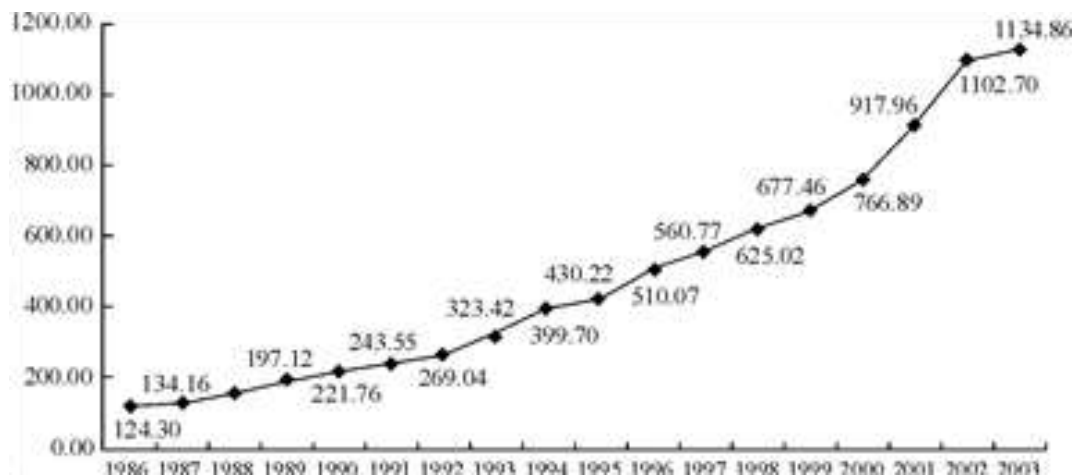


图3 支援农村生产支出和农林水利气象等部分的事业费（亿元）

96. 1965年支援农村生产支出和农林水利气象等部门的事业费是1950年的（ ）。

- A. 15.8 倍
C. 12.5 倍
- B. 8.7 倍
D. 5.6 倍
97. 1959 年与 1958 年比较，支援农村生产支出和农林水利气象等部门的事业费（ ）。
A. 提高了 151.8%
C. 提高了 251.8%
- B. 提高了 51.8%
D. 提高了 105%
98. 1967 年与 1966 年比较，支援农村生产支出和农林水利气象等部门的事业费（ ）。
A. 降低了 115.5%
C. 降低了 15.5%
- B. 降低了 55.5%
D. 降低了 105.
99. 2003 年支援农村生产支出和农林水利气象等部门的事业费是 1986 年的（ ）。
A. 6.21 倍
C. 10.97 倍
- B. 4.95 倍
D. 9.13 倍
100. 下列选项正确的是（ ）。
A. 1950 年到 1965 年支援农村生产支出和农林水利气象等部门的事业费持续增加
B. 1966 年到 1985 年支援农村生产支出和农林水利气象等部门的事业费持续增加
C. 1986 年到 2003 年支援农村生产支出和农林水利气象等部门的事业费持续增加
D. 1950 年到 2003 年支援农村生产支出和农林水利气象等部门的事业费持续增加

二、根据以下资料，回答问题。

为反映我国工业企业自主创新能力现状，了解企业开展创新活动的政策环境以及企业家对创新的认知程度，国家统计局近期对我国工业企业的创新情况进行了一次专项调查。

调查结果显示，2009—2011 年间，全国开展创新活动的规模以上工业企业有 8.6 万家，占全部规模以上工业企业的 28.8%。其中大型企业中开展创新活动的企业所占比重为 83.5%，中型企业为 55.9%，小型企业为 25.2%。

分行业看，开展创新活动的企业较为密集的行业主要分布在医药制造业（63.8%），仪器仪表及文化、办公用机械制造业（60.9%），专用设备制造业（46.6%），通信设备、计算机及其他电子设备制造业（46.5%）等高新技术或中高技术行业。传统制造业及非制造业工业开展创新活动的企业所占比重相对较低，如纺织业为 24.2%，采矿业为 12.2%，电力、燃气及水的生产、供应业为 15.7%。

分地区看，东、中、西部地区开展创新活动的企业占本地区规模以上工业企业的比重分别为 28%、31.6%和 9.6%，东部地区虽然低于中部地区，但东部地区开展创新活动企业的数量达到 6.1 万家。

创新经费来源情况可以从一个侧面反映政府支持企业创新的政策环境。调查结果表明，在全部规模以上工业企业创新活动经费中，企业资金占 82.8%，金融机构贷款占 9.3%，政府资金占 3.4%，国外资金和其他资金分别占 0.8%和 3.7%。

调查结果表明，2011 年我国规模以上工业企业实现新产品销售收入 39606.1 亿元，占当年主营业务收入的比重为 12.7%；新产品出口额为 8686.8 亿元，占当年全部工业制成品出口额的 11.9%。

分企业规模看，大型、中型和小型企业分别实现新产品销售收入 21002.4 亿元、10404.5 亿元和 8199.1 亿元，占主营业务收入的比重分别为 18.6%、11.1%和 7.7%。

101. 2009—2011 年间，全国规模以上工业企业约有（ ）。
A. 2.41 万家
C. 24.08 万家
- B. 29.86 万家
D. 2.99 万家
102. 开展创新活动的企业较为密集的行业主要分布在（ ）。

- A. 纺织业
- B. 电力、燃气及水的生产、供应业
- C. 医药制造业
- D. 采矿业

103. 东部地区开展创新活动企业的数量达 6.1 万家，占全国开展创新活动规模以上工业企业的（ ）。

- A. 9.6%
- B. 31.6%
- C. 28%
- D. 70.9%

104. 2011 年我国全部工业制成品出口额为（ ）。

- A. 72998.3 亿元
- B. 1033.7 亿元
- C. 9720.5 亿元
- D. 39606.1 亿元

105. 下列说法正确的是（ ）。

- A. 全国近两成的工业企业开展了创新活动
- B. 开展创新活动企业数量所占比重随企业规模由小到大依次递减
- C. 企业资金是创新经费的主要来源
- D. 表明企业规模越小，创新活动的成效越强

三、根据以下资料，回答问题。

按性别、年龄和事由分外国入境旅游人数单份：万人次

年份 指标	2010 年	2011 年
总计	1693.25	2025.51
按性别分		
男	1120.40	1321.15
女	572.85	704.36
按年龄分		
14 岁及以下	64.15	79.93
15—24 岁	131.97	164.46
25—44 岁	828.82	979.74
45—64 岁	588.27	703.84
65 岁以上	80.05	97.55
按目的分		
会议/商务	386.14	459.81
观光休闲	741.21	934.46
探亲访友	37.62	40.54
服务员工	175.48	201.16
其他	352.80	389.54

106. 2010 年男性外国入境旅游人数占总入境游人数的比重约为（ ）。

- A. 82.6%
- B. 33.8%
- C. 66.2%
- D. 51.4%

107. 2011 年年龄不超过 24 岁的入境旅游人数累计占总入境旅游人数的（ ）。

- A. 约 8%
- B. 约 12%
- C. 约 25%
- D. 约 4%

108. 2011 年以观光休闲为目的的入境旅游人数占总入境旅游人数的（ ）。

