

第一部分 常识判断

根据题目要求，在四个选项中选出一个最恰当的答案。

请开始答题：

1. 决定我国自然环境差异的基本因素是（ ）。
A. 植被和气候
B. 气候和地貌
C. 地貌和水文
D. 土壤和植被
2. 近 20 多年来，我国人口流出量最大的省是（ ）。
A. 甘肃省
B. 广东省
C. 四川省
D. 山西省
3. 对“一国两制”构想的正确解释是（ ）。
A. 接纳了英国“主权与政治分开”的提议
B. 给予特别行政区包括外交和国防在内的自治权
C. 在人权问题上采取了更加灵活的策略
D. 大陆实行社会主义，港澳台实行资本主义
4. 作为定案根据的证据应当具有的基本特征是（ ）。
A. 属于物品或痕迹
B. 由当事人提供
C. 经过鉴定
D. 具有证明力和证据能力
5. 世界大陆地的最低点是（ ）。
A. 吐鲁番盆地
B. 艾丁湖
C. 死海
D. 马里亚纳海沟
6. 民事诉讼与和解、调解、仲裁的主要区别在于（ ）。
A. 民事诉讼是解决民事纠纷的最好方式
B. 民事诉讼的裁判结果具有强制力
C. 民事诉讼有国家的介入
D. 民事诉讼的结果当事人容易接受
7. 一项法律权利的核心和基础是（ ）。
A. 自由权
B. 请求权
C. 诉权
D. 许可权
8. 宪政的基本精神是（ ）。
A. 建立有限政府
B. 树立宪法的最高权威
C. 宪法是宪政的前提
D. 宪法能够得到严格的遵守和执行
9. 去年某夜，北京京广中心附近道路塌陷，次日清早许多人收到市政府发来的短信，提醒市民绕道而行；春节前，众多市民收到政府的拜年信，除祝福外，还特别叮嘱燃放烟花爆竹要遵守规定，注意安全；清明节前，市政府又多次通过媒体提醒外出扫墓的市民注意行车路线，防火和安全。这些表明（ ）。
A. 政府性质逐渐改变，重视职能转变
B. 政府职能日益多样，高度重视安全
C. 政府服务更加完善，注重以人为本
D. 政府权力不断扩大，提倡执政为民
10. 在全球化趋势下，国际社会越来越成为一个不可分割的整体。一国安全问题解决得好可以惠及别国，反之，则会殃及他国，国家安全在一定程度上显现出“一荣俱荣，一损俱损”的特点。下列选项中与上述特点无关的哲学道理是（ ）。
A. 事物之间相互影响，相互制约
B. 内因是事物变化发展的根据
C. 外因是事物变化发展的条件
D. 事物处于因果联系的链条之中
11. 根据选举法，省、自治区、直辖市、设区的市、自治州的人民代表大会的代表，由（ ）产生。

- A. 上级任命
B. 下级委派
C. 直接选举
D. 间接选举
12. 人民法院在依照法律规定独立行使审判权时（ ）。
A. 必须接受党委指导
B. 不受行政机关，社会团体和个人的干涉
C. 应当听取社会各界的意见
D. 必须听从行政领导的指示
13. 新华社 2006 年 3 月 27 日受权发布的《国务院关于解决农民工问题的若干意见》指出，农民工问题事关我国经济和社会发展的全局，（ ）是需要解决的突出问题，解决农民工问题是建设中国特色社会主义的战略任务。
A. 农民工就业
B. 农民工的社保问题
C. 维护农民工权益
D. 公共服务
14. 2006 年 10 月 8 日——11 日举行的中共中央十六届六中全会通过了《中共中央关于构建社会主义和谐社会若干重大问题的决定》。《决定》指出，社会主义（ ）是建设和谐文化的根本。关于良好的社会道德风尚，《决定》将其精简为 8 个字：爱国、敬业、（ ）、友善。
A. 荣辱观 诚信
B. 核心价值体系 守法
C. 荣辱观 守法
D. 核心价值体系 诚信
15. 2006 年 10 月 22 日上午，纪念红军长征胜利（ ）周年大会在北京人民大会堂隆重举行，中共中央总书记，国家主席、中央军委主席胡锦涛发表重要讲话。
A. 60
B. 70
C. 75
D. 80
16. 树立科学的人才观，实施（ ）是我党适应经济全球化趋势，不断发展、应对国际人才激烈竞争的必然选择。
A. 教育战略
B. 改革开放工程
C. 发展的观点
D. 人才强国战略
17. 2006 年 9 月 20 日，日本内阁官房长官（ ）在自民党总裁选举中获胜，他将出任下届日本首相。
A. 安倍晋三
B. 小泉纯一郎
C. 谷垣禎一
D. 麻生太郎
18. 奥组委总部设在（ ）。
A. 瑞士洛桑
B. 美国华盛顿
C. 法国巴黎
D. 德国海德堡
19. 新华社 5 月 23 日受权发布了《中央精神文明建设指导委员会关于深入学习实践（ ）大力加强思想道德建设的意见》。
A. 科学发展观
B. “三个代表”重要思想
C. 正确政绩观
D. 社会主义荣辱观
20. 下面解说错误的一项是（ ）。
A. 《战争与和平》、《安娜·卡列尼娜》、《复活》及自传体小说三部曲《童年》、《少年》、《青年》都是俄国著名作家列夫·托尔斯泰的著作
B. 辛弃疾，字幼安，号稼轩，他与北宋苏轼同是著名的豪放派词人，并称苏辛
C. 《悲惨世界》、《巴黎圣母院》、《九三年》、《笑面人》都是法国著名作家雨果的作品
D. 剧本《伪君子》、《吝啬鬼》、《贵人迷》是 17 世纪法国悲剧作家莫里哀的著作
21. 我国行政法律规范的适用规则是（ ）。
A. 特殊法优于一般法
B. 新法优于旧法

- C. 上位法优于下位法
D. 特别法优于一般法
22. 当代政府行为的规范，实质是一个政府全面转型的问题，在这个转变过程中，首先要实行政府观念的转变，这种转变主要包括（ ）。
- A. 树立以人为本的协调发展观
B. 树立以民为本的政绩观
C. 牢固树立人民主人观，群众“上帝”观，权力服务观
D. 树立现代政府的理念
23. 增进公共组织领导有效性的方法是（ ）。
- A. 提高领导者素质
B. 加强干部队伍建设
C. 优化领导班子结构
D. 改进领导方式
24. 当事人在刑事诉讼中的权利主要有（ ）。
- A. 申请回避权
B. 参加法庭调查、辩论权
C. 上诉权（被害人除外）
D. 抗诉权
25. 根据我国继承法，下列哪些财产可以继承（ ）。
- A. 个人承包应得的个人收益
B. 山林承包权亦或企业租赁权
C. 租赁企业应得的个人收益
D. 股份制企业中的股权
26. 凡在中华人民共和国领域内犯罪的，除法律有特别规定时以外，都适用本法。这里的“领域”包括（ ）。
- A. 领陆、领水、领空
B. 我国的船舶、航空器
C. 我国驻外使、领馆
D. 外国驻我国的使、领馆
27. 在十届全国人大四次会议召开前夕，“十一五”规划成为人民关注的焦点。在“十一五”规划的编制过程中，共有 412 万中国公民为“十一五”规划建言献策，这些意见被充分吸纳到规划的编制之中。公民为“十一五”规划建言献策，是公民在行使（ ）。
- A. 基本的政治权利
B. 监督权
C. 直接管理国家事务的权利
D. 参与国家政治生活的权利
28. 2006 年 3 月国务院发展研究中心主任在“中国发展高层论坛 2006 年会”上说，为解决经济和社会发展过程中出现的矛盾和问题，我国提出两大战略构想。这两大战略构想是（ ）。
- A. 科学发展观
B. 社会主义荣辱观
C. 建设节约型社会
D. 构建社会主义和谐社会
29. 下列选项中，属于我国“十一五”时期的战略重点和主要任务的是（ ）。
- A. 建设社会主义新农村
B. 加快推进经济结构调整和增长方式转变
C. 促进区域协调发展
D. 深化改革和扩大开放
30. 2006 年 11 月 4 日至 5 日，中非合作论坛北京峰会在北京隆重举行。峰会再次确认，中非应建立和发展新的战略伙伴关系。下列选项中，对中非新型战略伙伴关系理解正确的是（ ）。
- A. 政治上平等互信
B. 经济上合作共赢
C. 文化上交流互鉴
D. 科技上相互支持

第二部分 言语理解与表达

本部分包括表达与理解两方面的内容。请根据题目要求，在四个选项中选出一个最恰当的答案。

请开始答题：

在一定条件下，朦胧比清晰更富美感。古人云：“马上看壮士，月下看美人。”据天文学家称，即使是满月——十五的月亮，其亮度也只相当于阳光的五十万分之一。

长江三峡的神女峰，终年云雾缭绕，其险峻奇诡尽在半遮半掩之中，故有“半入仙境半人间”的飘渺意境。这种“飘渺”亦即朦胧，常导致人们产生创造性的思维活动，叫做“浮想联翩”。倘若有人走近去，实地考察一番，想那如仙似幻的景色必然减半，所得不过一片残山瘦水古树怪石而已。

因为美感体验是非反思的、不自觉的，美感体验的关键是体验者与其对象不可分割地融合在一起，而朦胧可以使一些事物得以藏拙遮丑而趋于尽美。“明察秋毫”则很难获得持久的美感享受。

现代企业管理学中有一门课叫做“行为科学”，它用社会心理学来研究人的行为及产生种种行为的原因，认为：[人的欲望（或称需要）是人行为的发动器]，倘欲望完全被行为实现而满足了，欲望立即消失，产生索然之感，这时候就需要另一种新的欲望来发动新的行为。而“朦胧”总是使人不识庐山真面目，赏美心理永远不能完全满足，也就不会兴味索然。美感最强烈之点是刚刚触到迫切欲赏的美物而又没有完全得到的那一瞬间，这一瞬间就产生“临界点美感”，朦胧的美学功能就包括使人总是保持在兴趣盎然而不是索然的“临界点美感”上。

为满足人类这一固有的审美心理，作家为文则必须含蓄，状物抒情也必须蕴藉，即所谓“意贵透彻，语忌直率”。诚然，朦胧不是晦涩，不是让谁也看不懂，更不是一团漆黑。一言以蔽之：朦胧使美感纯化，使美感丰厚，使美感不衰。

31. 对文中概念“临界点美感”理解不正确的一项是（ ）。
- A. 它产生于刚刚触到迫切欲赏的美物而又没有完全得到的那一瞬间
 - B. “临界点美感”所构成的心理基础是对美的事物的一种完全满足
 - C. 从心理学的角度来看，“临界点美感”是最强烈的美的感受
 - D. 使人保持在兴趣盎然的“临界点美感”上，是朦胧的美学功能之一
32. 下列能作为“朦胧使美感纯化”这个观点的依据的一项是（ ）。
- A. 朦胧导致人们产生创造性的思维活动，即“浮想联翩”
 - B. 朦胧可以使一些事物得以藏拙遮丑而趋于尽美
 - C. 朦胧不仅可以使美感丰厚，而且还能使之长久不衰
 - D. “明察秋毫”（不朦胧）则很难获得持久的美感享受
33. 下面不属于朦胧美感的一项是（ ）。
- A. 隔花人远天涯近
 - B. 此时无声胜有声
 - C. 学生听老师讲课似懂非懂
 - D. （东邻美女）增之一分则太长，减之一分则太短
34. 对[]里的句子“人的欲望（或称需要）是人行为的发动器”，在文中的深刻含义理解正确的一项是（ ）。
- A. 人的欲望永远不可能得到满足
 - B. 人应想方设法满足自己的欲望
 - C. 体会美感应凭直觉而不能凭反省
 - D. 欲望是万恶之源
35. 对文章内容理解不正确的一项是（ ）。
- A. 第一段引用“马上看壮士，月下看美人”是要说明不清晰而产生出朦胧的美感

- B. 第四段作者从社会心理学角度分析了朦胧能使人产生出强烈而持久的美感的原因
- C. 最后一段通过朦胧与晦涩的比较，使人们对朦胧美有全面的认识，避免了片面性
- D. 从全文看，作者认为朦胧是艺术创作的最高境界，有朦胧才能使美感经久不衰

教育的任务就是唤醒人的潜力或潜在本质，使其内部产生一种自动力，最大限度地使其内部灵活性与可能性得到最佳发展。教育实质上是人的灵魂的教育，而（不仅仅）是知识和认识的积累，而灵魂的成长成熟是没人可以代劳的。按本性说，人们希望成为真正的人，而不是异化的人。我们是什么样的人和别人要求我们成为什么样的人之间是有冲突的，人应按自身本性发展，自己决定自己成为什么样的人，并靠自身改变自身进而把握自己安身立命之本。人要能健康成长必须经过这样一个（内部发展过程）。古人说：顺物之性以治物则物无不可用，顺人之性以治人则人无不可治。这与老子所说“我无为，而民自化”意思相通。用今天的话说，就是减少不必要的干涉与管束，充分信任新生人的内在机制，使人渐习而日无之，从无序达到有序。而试图过多干预存在物的生长规律，必将损害这些事物，同时也破坏自身的和谐。

从心理上分析，人的这种生成是在不知不觉的无意识中达到的。而“那种最高最好的东西不是根据意识的规定制作的，而是一种自发的或无意识的成长的结果”。所谓“徒善远罪而不知”也。自己订了好的品质自己都不觉得。这是在循循善诱中，潜移默化，熏陶渐染有以致之。但人们却常常忽视甚至无视这种无意识的作用，（只把注意力放在提高自觉性上）。因而习惯于单向灌输，把自己当作主体，把教育对象视为客体。视为活的接受器，惟享受教育者不能意识到自己在被施教。这实在是教育的一大误区，前苏联教育家苏霍姆林斯基对这个问题有过深刻的论述，他从自己长期的教育实践中认识到，一味强调自觉，必然“会在人身上培植虚伪的性格”，他严厉指责这样做是一种“不道德的行为”而“这种不道德的行为还有更巧妙、更隐蔽”的表现——事先设计故意生造一种教育场景。可当受教育者非常准确地看穿这种矫揉造作的把戏，他的心灵便会作出防御戒备的反应，形象地说，便会扣上全部钮扣，整个封闭起来。所以，他不得不花费巨大的努力，使青少年不致感到他是被人有目的地引导到什么地方去。事实证明，（受教育者越少感到落在自己头上的设想，其教育效果便越大）杜甫的两句诗：随风潜入夜，润物细无声。可作这种教化的形象说明，教育有如雨露之于草木，受教育者如坐春风，如沐春雨，在潜意识，半潜意识中，导致深层心理结构的变化。

36. 第一段中“这样一个内部发展过程”指的是（ ）。
- A. 最大限度地使其内部灵活性与可能性得到最佳发展
 - B. 发展自身、决定自身、改变自身、把握自身
 - C. 顺人之性以治人，则人无不可治
 - D. 减少不必要的干涉和管束，充分信任尊重人的内在机制
37. 第一段中“不仅仅”所强调的意思是（ ）。
- A. 我们是什么样的人
 - B. 别人要求我们成为什么样的人
 - C. 人的灵魂的教育
 - D. 知识与认识的积累
38. 第二段中“受教育者越少感到落在自己头上的设想，其教育效果便越大”的依据是（ ）。
- A. 把自己当作主体，把教育对象视为客体
 - B. 一味强调自觉，必然会在人身上培植虚伪的性格
 - C. 事先设计故意生造一种教育场景
 - D. 在自发的或不自觉的无意识中达到教育目的
39. 第二段中“只把注意力放在提高自觉性上”有种种做法、表现，不属于其做法、表现的一项是（ ）。
- A. 在主题班会上，同学们纷纷表决心，保护环境，从我做起

B. 顺人之性以治人，则人无不可治

C. 同学们踊跃参加班级足球赛，相互切磋球技，既增进了友谊，又增强了集体凝聚力

D. 某车间主任竟让刑满释放人员张辛管仓库，并把钥匙交给了他

40. 下列各项中，不符合老子“我无为，而民自化”思想的一项是（ ）。

A. 人应按自身本性发展

B. 顺人之性以治人，则人无不可治

C. 把自己当作主体，把教育对象视为客体

D. 教育有如雨露之于草木

(1) 每个人都有巨大的潜能。

(2) 纵观学业有成、事业有成的人，他们有一个共同点，就是不断开发自己大脑的潜能。

(3) 反过来，许多学习后进的人，决不是没有潜能，而是不相信自己有潜能，经受一两次失败，就总是怀疑自己笨，不断强化“自己脑子笨”的意念。久而久之，觉得自己脑子笨的那根神经工作能力越来越强，形成习惯，一事当前先想自己笨，先想自己不行，不给那些潜在的能力、脑神经以工作的机会。于是，潜能当然被埋没了。

(4) 有的人埋怨社会埋没人才，细想起来，自我埋没掉的人才要比社会埋没掉的人才多得多。

(5) 要开发自己大脑的潜能，开发大脑的智力资源，第一要紧的，就是坚信自己有巨大的潜能。

(6) 每个人的大脑皮层舒展开来，都在 2500cm 左右，每个人都有 140 亿个左右的脑细胞。倘若每个脑细胞有工作一秒钟的机会便死亡，一个人一生中有效工作时间才 28800 万秒，即使夜以继日，星期假日都用来工作，也不过 10 亿秒。许多生理解剖学家和心理学家都认为，最杰出的科学家，也只不过用了大脑资源的 1/10。我们这样的普通人，浪费的脑潜能就更多了。

(7) 1964 年前苏联《今日生活》载文：在正常情况下工作的人，一般只使用了其思维能力的很小一部分。如果我们迫使我们的大脑达到其一半的工作能力，我们就可以轻而易举地学会 40 种语言，也可将一本大百科全书背得滚瓜烂熟，还能够学完数十所大学的课程。这种对人类潜能的推数现在已为人们所接受。

(8) 前捷克斯洛伐克有位叫米兰·米凯什的语言奇才，他精通 40 国语言，共懂 116 种语言。立陶宛有一位叫拉比·伊莱贾的人，只读一遍就能记住的书竟有 200 册之多。

(9) 许多人到了暮年，忽然发现自己有着从来未被发现的这样或那样的能力。美国著名艺术家摩西老母在她的晚年才发现自己有惊人的艺术天才。美国学者往往把她当作范例解释这类现象，并称之为“摩西老母效应”。与之相提并论的还有“短路理论”：如果人不去唤醒自身的潜在能力，这些能力就会转化或自我毁灭。

(10) 人脑的潜能如地下的煤矿、油矿，如果自己不相信地下有矿，只是着眼于砍伐地表的柴草，当然会感觉资源贫脊，柴草越砍越少。如果坚信自己大脑深处，潜在着巨大的资源立足于往深处开采，那当然会有不尽潜能滚滚来的感觉。

(11) 每个人都要坚信自己有巨大的潜能，每个人确实都有巨大的潜能，不要紧盯着地表那点野草，大家都信心百倍地向大脑深处去开采巨大的潜能吧。

41. 第(3)段末尾说潜能当然被埋没了，根据文意，对“被埋没”的原因分析正确的一项是（ ）。

A. 有些人不相信自己有潜能，经不住失败的考验

B. 有些人总是怀疑自己笨，总觉得自己不行

C. 有些人“自己脑子笨”，没有潜能，无法开发

D. 人的潜能会转化，也会自我毁灭

42. 第(4)段中作者说“自我埋没掉的人才要比社会埋没掉的人才多得多”，根据文意对人才“自我埋没掉”的原因归纳正确的一项是（ ）。

A. “自我埋没掉的人才”不相信自己有巨大的潜能，因而也“不去挖掘自己巨大的潜能”

- B. 自我埋没掉的人才经受一两次失败，就总怀疑自己笨
- C. 自我埋没掉的人才“一事当前先想自己笨”
- D. 自我埋没掉的人才到了暮年“忽然发现自己有着从来未被发现的这样或那样的能力”
43. 给第(9)段的“摩西老母效应”所作的解释正确的一项是()。
- A. 人发现并利用自己的某种潜能，并且获得很大成功
- B. 人在晚年发现利用自己的艺术天才，并获得巨大成就
- C. 人到晚年发现利用自己的某种潜能，并且取得巨大成就
- D. 人发现并利用自己的某种潜能，并获得巨大的成就
44. 下面的论述不可能从原文中推出的一项是()。
- A. 每个人的大脑都拥有丰富的脑力资源
- B. 拉比·伊莱贾记住的书有200多册，他却仍然有绝大部分的脑力资源没有被开发
- C. 只有坚信自己大脑有巨大的潜能，才能充分开发大脑的智力资源
- D. 人到了暮年还不去唤醒自身潜在能力，这些能力就会转化或自我毁灭
45. 下面说法符合原文意思的一项是()。
- A. 学习后进的人永远不会发现自己的巨大潜能并加以利用
- B. 正常情况下工作的人们浪费了大量潜藏于大脑深处的各种能力
- C. 杰出的科学家或学者充分唤醒并开发了自己大部分的脑力资源
- D. 米兰·米凯什仅仅利用了一小半自己的脑力资源就成了“语言奇才”，这说明他的脑潜能很好地发挥到了一半的工作能力

人间鲁迅

一个人由此得生，也可以由此得死的时代是大时代。大时代总要产生巨人。

鲁迅是巨人。他不是帝王，不是将军，他无须挥舞权杖。作为旧世界的逆子贰臣，惟以他的人格和思想，召引了大群年轻的奴隶。他把对于民族和人类的热爱埋得那么深沉，乃至他的目光，几乎只让人望见直逼现实的愤怒火焰。数千年的僵尸政治，“东方文明”，专制、虚伪，保守和蒙昧，都是他攻击的目标，他教奴隶们如何反抗，如何“钻网”，如何进行韧性的战斗。他虽然注意实力的保存，却不惮牺牲自己，必要时照例地单身鏖战。

在一生中，他呐喊过也彷徨过，甚至横站着作战的晚年仍然背负着难耐的寂寞，但是从来耻于屈服和停顿，中国的思想文化界没有一个人像他一样赢来众多的“私敌”，没有一个像他一样招致密集的刀箭，因此也就没有一个像他一样获得更为辉煌的战绩。他所凭借的仅仅是一支“金不换”，便在看不见的但却是无比险恶的战场里，建树了超人一等的殊勋。

在他身后，自然要出现大大小小的纪念物、石雕、铜像以及传记。可悲哀的是：当再度被赋予形体的时候，这个始终屹立于人间的猛士，却不止一次地经过有意无意的铺垫与厚饰，成了奥林匹斯山上的宙斯。

平凡的伟大才是真正的伟大。鲁迅是“人之子”，人所具有的他都具有。正因为他耳闻了愚妄的欢呼和悲惨的呼号，目睹了淋漓的鲜血和升腾的地火，深味了人间的一切苦辛，在他的著作中，古老而艰深的象形文字，才会变得那么平易，那么新鲜，那么富于生命的活力。

这样一个毕生以文字从事搏战的人，他的形象，其实早经文字本身表达无疑了。世间的纪念物，丝毫也不能为他增添或减损什么，无非是后人的一种感念而已。如果它所激发的，不是对真理的渴求，不是奔赴生活的勇气和变革现实的热情，而是宗教式的膜拜，那么不如说：我们什么都不需要。

害虫萝卜蚜的防治效果达到 99.85%，而对蚜虫天敌瓢虫的杀伤率仅为 11.58%；对照使用的化学杀虫剂乐果乳油的两个指标分别为 71.5%和 28.54%。

此外，有毒植物可以大量种植，而且开发费用也较低。我国已发现的有毒植物达一万多种，它们当中大都具有杀虫抑菌作用，较有价值的杀虫植物大概有五类：对昆虫有强烈驱赶作用的，如丁香、茴香；对作物真菌病和病毒病有疗效的，如大黄、烟草；可提炼使昆虫有强烈拒食作用的天然物质的，如川楝、花椒；能影响昆虫激素平衡的，如万寿菊、香茅；使昆虫绝育的，如喜树硷、姜油等。

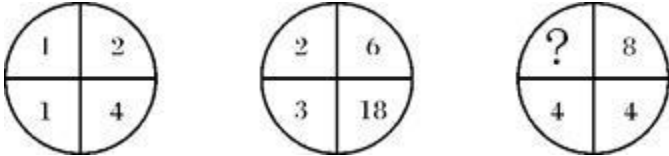
56. 对长期大量使用化学农药造成的严重问题，解说错误的一项是（ ）。
- A. 长期大量使用化学农药使得抗药害虫的抗药性越来越强，且种类也不断增加
 - B. 增加化学农药使用的剂量会杀死害虫的天敌，造成农作物害虫频频成灾
 - C. 现在要杀死这些抗药害虫，必须千万倍地加大剂量，这必然导致化学农药生产成本增加
 - D. 长期大量使用化学农药杀虫，已经造成了损害人体健康、危及人的生命的严重后果
57. 下列对“植物农药”概述，解释正确的一项是（ ）。
- A. 是提炼有毒植物中能有效杀虫的对环境无污染的无毒物质制造的
 - B. 是提炼有毒植物中多种有效杀虫的天然物质制造的
 - C. 是利用多种有毒植物的杀虫成分，经过提炼后制造的
 - D. 是利用有毒植物中使害虫不能产生抗药性的多种杀虫成分，经提炼后制造的
58. 对文中“植物农药有着突出的优点”一句的解释不正确的一项是（ ）。
- A. 避免了化学农药不易分解为无毒植物物质、对环境有污染的缺陷，有利于人类的健康
 - B. 使害虫较难产生抗药性，如同病菌对于中药混合物煎剂更难适应一样
 - C. 植物农药不会杀死害虫的天敌，有益于生物的安全
 - D. 有毒植物可以大量种植，而且与化学农药比较开发费用也较低
59. 下列说法不符合原文意思的一项是（ ）。
- A. 植物农药对害虫的防治效果是化学农药所不及的
 - B. 人工合成的化学农药杀虫成分单一化，因而害虫容易产生抗药性
 - C. 植物农药防治农作物虫害的原理主要是驱赶害虫和破坏抑制害虫的生理机能
 - D. 我国已发现的有毒植物都具有杀虫抑菌作用
60. 文中括号处，应填入的词语是（ ）。
- A. 抗拒
 - B. 适应
 - C. 消灭
 - D. 损害


第三部分 数量关系


在这部分试题中，每道题呈现一段表述数字关系的文字，要求你迅速、准确地计算出答案。

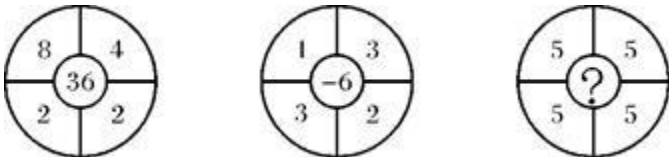
请开始答题：

61. 2, 13, 40, 61, ()
 A. 46.75
 B. 82
 C. 88.25
 D. 121
62. 118, 60, 32, 20, ()
 A. 10
 B. 16
 C. 18
 D. 20
63. 14, 6, 2, 0, ()
 A. -2
 B. -1
 C. 0
 D. 1
64. 2, 7, 14, 21, 294, ()
 A. 28
 B. 35
 C. 273
 D. 315
65. 9, 6, 3/2, 4, ()
 A. 2
 B. 3/4
 C. 3
 D. 3/8

66. 
 A. 4
 B. 8
 C. 16
 D. 32

67. 
 A. 2.5
 B. 0
 C. -3
 D. -5

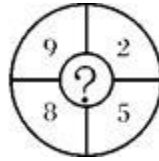
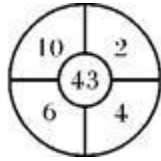
68. 
 A. 28
 B. 24
 C. 14
 D. 13

69. 
 A. 100
 B. 56

C. 25



D. 0



70.

A. 39

B. 49

C. 61

D. 140

71. 一个两位数除以一个一位数，商仍是两位数，余数是8。问被除数、除数、商以及余数之和是多少？（ ）

A. 98

B. 107

C. 114

D. 125

72. 10个连续偶数的和是从1开始的10个连续奇数和的2.5倍，其中最大的偶数是多少？（ ）

A. 34

B. 38

C. 40

D. 42

73. 某车间从3月2日开始每天调入一人，已知每人每天生产1件产品，该车间从3月1日至3月21日共生产840件产品，该车间原有工人多少名？（ ）

A. 20

B. 30

C. 35

D. 40

74. 商店卖气枪子弹，每粒1分钱，每5粒4分，每10粒7分，每20粒1角2分。小明的钱至多买73个，小刚至多买87个，两人钱合起来能买多少粒？（ ）

A. 160

B. 165

C. 170

D. 175

75. 在一个口袋里有10个黑球，6个白球，4个红球，至少取出几个球才能保证其中有白球？（ ）

A. 14

B. 15

C. 17

D. 18

76. 爸爸、哥哥、妹妹3个人，现在年龄和为64岁，当爸爸是哥哥年龄3倍时，妹妹是9岁，当哥哥是妹妹年龄2倍时，爸爸34岁。现在爸爸的年龄多大？（ ）

A. 34

B. 39

C. 40

D. 42

77. 张大伯卖白菜，开始定价每千克5角，一点也卖不出去，后来每千克降低了几分钱，都卖掉了。一共收入22.26元，则每千克降低几分钱？（ ）

A. 3

B. 4

C. 6

D. 8

78. 甲、乙两厂生产同一种玩具，甲厂每月产量不变，乙厂每月增加1倍。已知一月两厂共生产105件，二月共生产110件。乙厂首次超过甲厂是几月？（ ）

A. 3月

B. 5月

C. 6月

D. 次年8月

79. 食堂买来5只羊，每次取出两只合称重量，得到10种不同重量（单位：千克）47、50、51、52、53、54、55、57、58、59。最重一只多少千克？（ ）

A. 25

B. 28

C. 30

D. 32

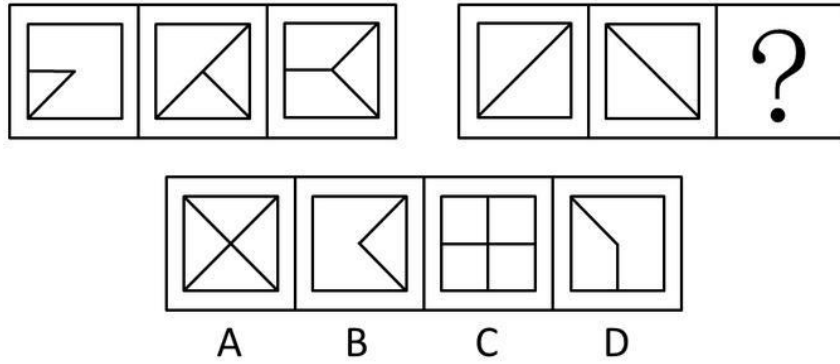
- 80.用大豆榨油，第一次用大豆 1264 千克，第二次用 1432 千克，第二次比第一次多出油 21 千克，两次共出油多少千克？（ ）
- A. 337
B. 179
C. 158
D. 132
81. 有一个正方形花池，周围用边长 25cm 的方砖铺了一条宽 1.5 米的小路，共用 1776 块。花池的面积是多少平方米？（ ）
- A. 111
B. 289
C. 400
D. 10404
82. 一盒巧克力和一瓶蜂蜜 18 元，一包泡泡糖和一袋香肠 11 元。一包泡泡糖和一瓶蜂蜜 14 元，一袋香肠比一盒巧克力贵 1 元。这 4 样食品中最贵的是什么？（ ）
- A. 泡泡糖
B. 巧克力
C. 香肠
D. 蜂蜜
83. 6 年级 3 个班种植了一片树，其中 56 棵不是 1 班种的，65 棵不是 2 班种的，61 棵不是 3 班种的，2 班种了多少棵？（ ）
- A. 35
B. 30
C. 26
D. 24
84. $(873 \times 477 - 198) \div (476 \times 874 + 199) = ()$ 。
- A. 1
B. 2
C. 3
D. 4
85. 某学生语文、数学、英语平均 93 分。语文、数学平均 90 分，语文、英语平均 93.5 分。该生语文成绩是多少分？（ ）
- A. 88
B. 92
C. 95
D. 99

第四部分 判断推理

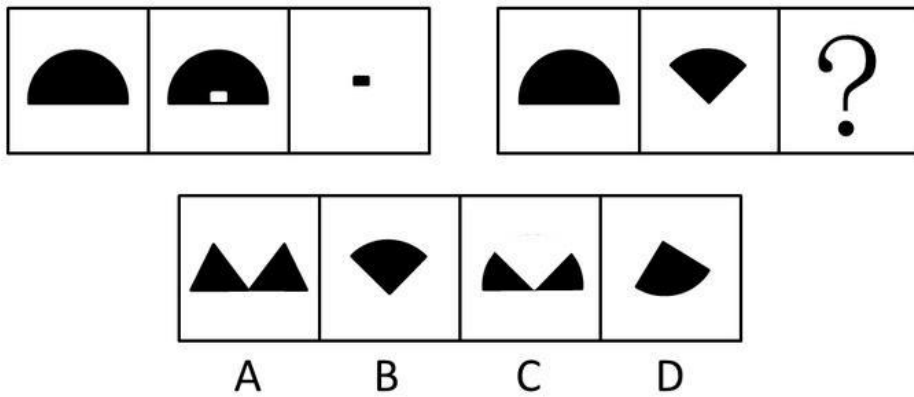
一、图形推理。请按每道题的答题要求作答。

请开始答题：

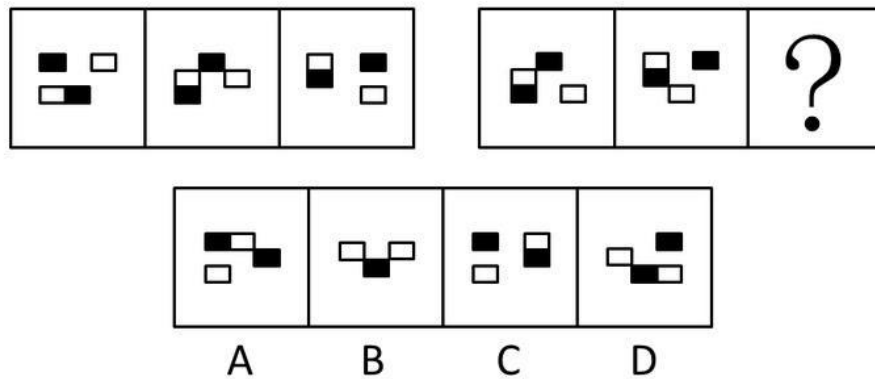
86. 从所给的四个选项中，选择最合适的一个填入问号处，使之呈现一定的规律性（ ）。



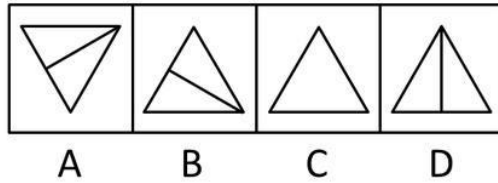
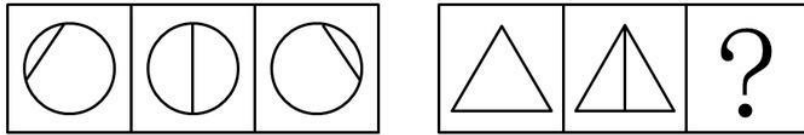
87. 从所给的四个选项中，选择最合适的一个填入问号处，使之呈现一定的规律性（ ）。



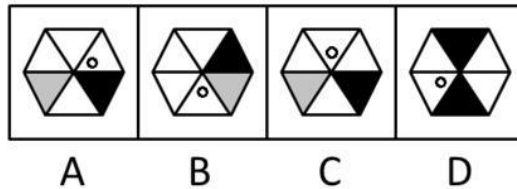
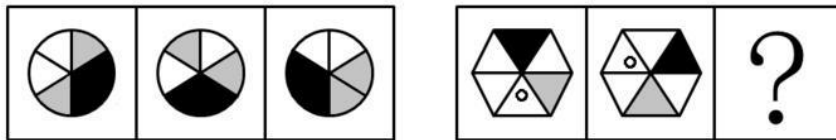
88. 从所给的四个选项中，选择最合适的一个填入问号处，使之呈现一定的规律性（ ）。



89. 从所给的四个选项中，选择最合适的一个填入问号处，使之呈现一定的规律性（ ）。



90. 从所给的四个选项中，选择最合适的一个填入问号处，使之呈现一定的规律性（ ）。



二、逻辑判断。每道题给出一段陈述，这段陈述被假设是正确的，不容置疑的。要求你根据这段陈述，选择一个答案。注意：正确的答案应与所给的陈述相符合，不需要任何附加说明即可以从陈述中直接推出。

请开始答题：

91. 实验发现：少量服用某种类型安定药物，可使人们在测谎的测验中撒谎而不被发现。测谎所产生的心理压力能够被这种药物有效地抑制，同时无显著副作用。因此，这类药物能同样有效地减少日常生活的心理压力，而无显著副作用。
- 以下哪项最可能是题干的论证所假设的？（ ）
- A. 任何类型的安定药物都有抑制心理压力的作用
 B. 若禁止测试者服用任何药物，测谎器就有完全正确的测谎结果
 C. 测谎所产生的心理压力与日常生活的类似
 D. 越来越多的人心理压力加重
92. 20 世纪 70 年代出现了大学毕业生的过度供给，过度的供给使大学毕业生的平均年收入降到了比只持有高中文凭的工人仅高 18% 的水平。到了 20 世纪 80 年代，大学毕业生的平均年收入比只持有高中文凭的工人高 43%，尽管 20 世纪 70 年代到 80 年代后期大学毕业生的供给量没有下降。
- 下面哪项，如果在 20 世纪 80 年代后期是正确的，最好地调解了上述明显的分歧？（ ）
- A. 经济放慢了，从而使对大学生的需求减少了
 B. 高中教育的质量提高了
 C. 与 20 世纪 70 年代相比，更多的高中为他们提供了职业指导计划
 D. 20 年来第一次出现了持有高中文凭的求职者的过度供给
93. 如果二氧化碳气体超量产生，就会在大气层中聚集，使全球气候出现令人讨厌的温室效应。在绿色植被覆盖的地方，特别是森林中，通过光合作用，绿色植物吸收空气中的二氧化碳，

放出氧气。因此，从这个意义上，绿色植被特别是森林的破坏，就意味着在生产二氧化碳。工厂对植物生成的燃料的耗用产生了大量的二氧化碳气体，这些燃料包括木材、煤和石油。上述断定最能支持以下哪项结论？（ ）

A. 如果地球上的绿色植被，特别是森林受到了严重破坏，将使全球气候不可避免地出现温室效应

B. 只要有效地保护好地球上的绿色植被，特别是森林，那么，即使工厂超量耗用由植物生成的燃料，也不会使全球的气候出现温室效应

C. 如果各国工厂耗用的由植物生成的燃料超过一定限度，那就不可避免地使全球气候出现温室效应，除非全球的绿色植被特别是森林得到足够良好的保护

D. 只要各国工厂耗用的由植物生成的燃料控制在一定的限度内，就可避免全球气候的温室效应出现

94. 所有切实关心教师福利的校长，都被证明是管理得法的校长；而切实关心教师福利的校长，都首先把注意力放在解决中青年教师的住房上。因此，那些不首先把注意力放在解决中青年教师的住房上的校长，都不是管理得法的校长。

为使上述论证成立，以下哪项必须为真？（ ）

A. 中青年教师的住房问题，是教师的福利中最为突出的问题

B. 所有管理得法的校长，都是关心教师福利的校长

C. 中青年教师的比例近年来普遍有了大的增长

D. 所有首先把注意力放在解决中青年教师的住房上的校长，都是管理得法的校长

95. 人们对于搭乘飞机的恐惧其实是毫无道理的，据统计，1995年全世界死于地面交通事故的人数超出80万，而在自1990至1999年的10年间，全世界平均每年死于空难的还不到500人，而在这10年间，我国平均每年罹于空难的还不到25人。

为了评价上述论证的正确性，回答以下哪个问题最为重要？（ ）

A. 在上述10年间，全世界平均每年有多少人采用地面交通，有多少人采用航运

B. 在上述10年间，我国平均每年有多少人采用地面交通，有多少人采用航运

C. 在上述10年间，我国平均每年有多少人死于地面交通事故

D. 在上述10年间，1995年全世界死于地面交通事故的人数是否是最高

96. 有的地质学家认为，如果地球的未勘探地区中单位面积的平均石油储藏量能和已勘探地区一样的话，那么，目前关于地下未开采的能源含量的正确估计因此要乘上一万倍，如果地质学家的这一观点成立，那么，我们可以得出结论：地球上未勘探地区的总面积是已勘探地区的一万倍。

为使上述论证成立，以下哪些是必须假设的？（ ）

I. 目前关于地下未开采的能源含量的估计，只限于对已勘探地区；

II. 目前关于地下未开采的能源含量的估计，只限于对石油含量；

III. 未勘探地区中的石油储藏能和已勘探地区一样得到有效的勘探和开采。

A. 只有I

B. 只有II

C. 只有I和II

D. 只有I、II、III

97. 虽然菠菜中含有丰富的钙，但同时含有大量的浆草酸，浆草酸会有力地阻止人体对钙的吸收。因此，一个人要想摄入足够的钙，就必须用其他含钙丰富的食物来取代菠菜，至少和菠菜一起食用。

以下哪项如果为真，最能削弱题干的论证？（ ）

A. 大米中不含钙，但含有中和浆草酸并改变其性能的碱性物质

103. ①119 接到报警
 ②消防队赶到封锁现场
 ③道路堵塞
 ④运化学试剂汽车发生遗洒
 ⑤路边树丛突然起火
 A. ④⑤①②③
 B. ③④①⑤②
 C. ④③②①⑤
 D. ⑤①②④③
104. ①摔倒
 ②遗留废料
 ③提起诉讼
 ④上班
 ⑤道路施工
 A. ④②①⑤③
 B. ⑤②④①③
 C. ⑤②①④③
 D. ⑤①②④③
105. ①晕倒
 ②领导探望
 ③步入社会
 ④工作任劳任怨
 ⑤成为劳模
 A. ④②①③⑤
 B. ①③②④⑤
 C. ⑤④①③②
 D. ③④①②⑤

四、定义判断。每道题先给出定义，然后列出四种情况，要求你严格依据定义，从中选出一个最符合或最不符合该定义的答案。注意：假设这个定义是正确的，不容置疑的。

请开始答题：

106. 民事合同，是作为平等主体的当事人之间设立、变更或者终止民事关系的协议。
 下列不属于民事合同的一项是（ ）。
 A. 买卖合同
 B. 运输合同
 C. 房屋租赁合同
 D. 农民土地承包合同
107. 行政许可，是指行政机关根据公民、法人或者其他组织的申请，经依法审查，准予其从事特定活动的行为。
 下列不得设定行政许可的是（ ）。
 A. 公路货运业
 B. 会计师
 C. 煤矿开采
 D. 商品价格
108. 公务员，是指依法履行公职、纳入行政编制，由国家财政负担工资福利的工作人员。
 下列不属于公务员的是（ ）。
 A. 九三学社的各级干部
 B. 东城法院的法官
 C. 福州海关的工作人员
 D. 海淀公证处的公证员
109. 法，是反映统治阶级意志的，由国家制定或认可并以国家强制力保证实施的行为规则的总称。
 下列表述正确的一项是：
 A. 法在本质上是社会成员公共意志的体现
 B. 法既执行政治职能，也执行社会公共职能

- C. 法最终决定于历史传统、风俗习惯、国家结构
D. 法不受客观规律的影响
110. 知识产权，是指基于创造性智力成果和工商标记依法生产的权利的统称。
下列有关知识产权的说法正确的是（ ）。
- A. 是一种财产权
B. 是一种人身权，具有永续性的特点
C. 以无体物为标的，兼具人身权与财产权的性质
D. 在一国取得，即受世界各国的共同保护
111. 共同共有，是指两个或两个以上的共有人对同一项财产享有同等权利并承担同等的责任和义务。
根据上述定义，下面哪一种情况属于共同共有？（ ）
- A. 某百万富翁死前立下遗嘱，言明他所有的存款及房产折价后，平等地分给他的两个儿子，两个人各享有一半的财产继承权
B. 某大学的学生按规定应该每个宿舍住六个人，由于人数原因，最后一个宿舍里只有安排三个人。最后学校给每个宿舍配了一台饮水机，这三个人的宿舍也装了一个
C. 某风险投资商投资于某一正在发展的小型企业，并言明该企业以后实行股份制，而企业董事长拥有 30% 的股份，风险投资商占有 70% 的股份
D. 两个人合伙开办了一家公司，一人负责经营，一人负责开发，但他们在合伙前就以书面公正的形式言明，两人共同拥有这家公司，但是一旦破产欠债，管开发的人不负责还债
112. 商品差价，指同一种商品由于流通环节、购销地区、购销季节及质量不同而形成的价格差额。
下列不属于商品差价的是（ ）。
- A. 同一本书，刚出版时与两年后价值不同 B. 早市萝卜一块一斤，下午则五角一斤
C. 富康轿车与大众轿车价值不同 D. 甲地的盐比乙地便宜，因为甲地产盐
113. 国家赔偿，是指国家机关及其工作人员违法行使行政、侦察、检查、审判、监狱管理等职权，侵犯公司、法人和其他组织的合法权益并造成损害的。由法律规定的赔偿义务机关对受害人予以赔偿的法律制度。
根据上述定义，下列属于国家赔偿的是（ ）。
- A. 某战士因公殉职，国家追认其为烈士，并发给其家人每年 2 万元的抚恤金
B. 工商机关因错误地吊销某个体户的营业执照，使其因此给予一次性的 2 万元赔偿
C. 公务员李某因丢失从邻居处借来的一条金项链，赔了人家 3000 多块钱
D. 国家财政每年从税收中拿出一部分用于扶贫建设
114. 犯罪集团，是指三人以上为了多次实施一种或数种犯罪而建立起来的犯罪组织。
下列属于犯罪集团的是（ ）。
- A. 某国为了颠覆我国政权，派遣了一个几十人的间谍组织，不断窃取我国机密情报
B. 李、王、钟三人因结伙行盗被一起抓获，但此前李并未参与他们二人的盗窃活动
C. 某村兄弟两人欺男霸女，横行霸道终因罪恶昭彰而伏法落网
D. 在审查一件腐败案件时，牵涉出来的人数达两百之多
115. 民族共同语言，是指同一个民族的人们在生产、生活中，彼此之间交流思想感情和交往联系所共同使用的言语。
下列语言不属于民族共同语言的是（ ）。
- A. 汉语
B. 蒙语

- C. 时下兴起的上网一族使用的一些缩略语
- D. 越南境内北方民族之一的侬人使用的与岱人相近的语言

来一直维持在一百多万吨的水平。2003年生产量为166.4万吨，增长9.4万吨，天然气生产量为0.3亿立方米，增长0.1亿立方米，一次能源自给率为20.1%，已下跌至10年来最低点，其中原煤自给率为25.9%，比上年下降1.3个百分点，原油自给率仅为9.7%，下降1.7个百分点。

2003年，全省能源加工转换企业能源投入总量为8642.1万吨标准煤，比上年增长16.7%，二次能源生产总量为5359.2万吨标准煤，增长17.3%。原煤用于加工转换的总量为7902.4万吨，比上年增长14.5%，占全省原煤消费总量的74.1%，其投入量的81.2%，是作为电煤用于火力发电，产出电力1334亿千瓦时，比上年增长14.3%。

2003年全省原油加工量为1677.8万吨，比上年增长22.2%。其中：产出汽油255.2万吨，柴油434万吨，燃料油155.2万吨，液化石油气89万吨和石油制品571.2万吨，分别比上年增长16.2%、16.6%、37.2%、7%和11.9%。

131. 2001年全省一次能源生产量为（ ）。

- A. 1927.7万吨标准煤
- B. 1953万吨标准煤
- C. 1978.9万吨标准煤
- D. 2083.8万吨标准煤

132. 与2002年相比，该省下列哪种能源生产的增长幅度最大（ ）。

- A. 原煤
- B. 原油
- C. 天然气
- D. 电力

133. 根据材料推测，全省能源加工转换企业每投入100万吨标准煤，可以产出电力（ ）。

- A. 15.4亿千瓦时
- B. 16.9万吨标准煤
- C. 20.8万吨标准煤
- D. 大于20.8万吨标准煤

134. 由以上材料可知（ ）。

- A. 该省一次能源生产呈高速发展态势
- B. 该省的能源生产基本上能够满足本省经济发展
- C. 该省能源消耗以煤炭和石油为主，这两类能源主要用于加工转换、生产二次能源
- D. 该省是典型的能源输入型地区

135. 根据材料，说法正确的是（ ）。

- A. 该省煤炭消费量比重偏大，故国际石油价格上涨将不针对该省经济造成明显影响
- B. 该省的发展应充分考虑环境因素，故须大量减少煤炭消费
- C. 近期原煤产量不会出现大幅度增长
- D. 2003年该省火力发电幅度增长，电力供应充足