

第一部分 常识判断

根据题目要求，在四个选项中选出一个最恰当的答案。

请开始答题：

1. 在我国，“公民”一词的含义是指（ ）。
A. 年满 18 周岁具有我国国籍的人 B. 具有我国国籍的人
C. 享有政治权利的人 D. 出生在我国的人
2. 下列行为中，没有违反《中华人民共和国未成年人保护法》的是（ ）。
A. 父母逼迫 19 周岁的女儿嫁给一外地人
B. 某小学将学习成绩垫底的王某开除
C. 某网吧负责人让 16 岁的小明进网吧玩游戏
D. 由于家庭生活困难，老王不让自己 10 岁的儿子上学
3. 下列行为中，没有违反《中华人民共和国妇女权益保障法》的是（ ）。
A. 某单位辞退了怀孕的小李
B. 某单位招收了一位年满 17 周岁的未成年女工
C. 由于家庭生活困难，老王让自己正在上小学的女儿辍学回家干活
D. 某公司未经王女士同意，以营利为目的，将其肖像印发在公司广告画上
4. 村民委员会和居民委员会的性质是（ ）。
A. 基层行政机关 B. 基层政权机关的派出机关
C. 基层群众性自治组织 D. 基层群众性组织
5. “政府的主要作用是掌舵，而不是划桨。”这一说法是指（ ）。
A. 政府应该强化集权 B. 政府的主要作用是决策，而不是执行
C. 政府应该加强自身组织的建设 D. 政府应该成为现代社会的导航员
6. 2003 年 1 月 1 日，《中华人民共和国政府采购法》正式开始生效。所谓的政府采购，本质上是（ ）。
A. 政府直接购买商品和劳务
B. 政府依法购买商品和劳务
C. 政府委托民营企业为其购买商品和劳务
D. 政府在购买商品和劳务的过程中，引入竞争性的招投标机制
7. 根据现代统计学的研究成果，“关键的事情总是少数，一般的事情常常是多数。”这意味着管理工作最应该重视（ ）。
A. 灵活、及时、适度 B. 客观、精确、具体
C. 突出重点，强调例外 D. 协调计划和组织工作
8. 组织的领导者应该学会“弹钢琴”，这种说法指的是（ ）。
A. 领导者要全面地看问题 B. 领导者要集中精力于领导和决策工作
C. 领导者应该是懂行的专家 D. 领导者应该具有开放型的性格
9. 作为调节社会经济运行的一种重要经济杠杆，提高税率通常将（ ）。
A. 提高政府的财政收入 B. 抑制投资，有利于防止经济过热
C. 刺激消费 D. 提高税收管理的效率
10. 中央和地方的国家机构职权的划分，所遵循的原则是（ ）。
A. 在中央的统一领导下，充分发挥地方的主动性、积极性
B. 在中央的统一领导下，充分发挥地方的主动性、创造性
C. 在中央的统一领导下，充分发挥地方的自主性、积极性

- D. 在中央的统一领导下，充分发挥地方的自主性、创造性
11. 现行宪法规定，国务院对各部、各委员会发布的不适当命令、指示和规章有权（ ）。
A. 改变
B. 发回
C. 改变或者撤销
D. 撤销
12. 《中华人民共和国对外贸易法》不适用于（ ）。
A. 货物进出口
B. 技术进出口
C. 香港地区货物进出口
D. 国际服务贸易
13. 甲与乙签订了一份合同，约定由丙向甲履行债务，现丙履行债务的行为不符合合同的约定，甲有权（ ）。
A. 请求乙承担违约责任
B. 请求乙和丙共同承担违约责任
C. 请求丙承担违约责任
D. 请求乙或丙承担违约责任
14. 我国在今后将逐步推开（ ），重大违法违规案件、因盲目决策造成的资源浪费和国有资产流失、单纯追求速度而片面提供优惠政策造成国家和人民群众利益受到重大损害等三大领域将成为审计的重点。
A. 民主审计
B. 依法审计
C. 审计风暴
D. 绩效审计
15. 在全国人大闭会期间，全国人大常委会根据国务院总理的提名，有权决定的人选不包括（ ）。
A. 秘书长
B. 审计长
C. 财政部部长
D. 国务委员
16. 张某家住北京市东城区，在朝阳区有一处商业用房，市拆迁办（在西城区）决定对其房屋拆迁，张某不服，诉至法院，应由（ ）受理。
A. 朝阳区法院
B. 东城区法院
C. 西城区法院
D. 以上三个法院都可以
17. （ ）没有权力制定规章。
A. 国家发展和改革委员会
B. 国务院办公厅
C. 国家人事部
D. 审计署
18. 按照现行宪法规定，地方各级人民法院对（ ）负责。
A. 上级人民法院
B. 本级人大常委会
C. 本级人民代表大会
D. 本级人大及其常委会
19. “月落乌啼霜满天，江枫渔火对愁眠。姑苏城外寒山寺，夜半钟声到客船。”这首诗歌中的“愁”字是指（ ）。
A. 仕途失意
B. 思乡之苦
C. 贫病交加
D. 寒意袭人
20. “印者，信也。”从印章问世时起，作为一种工具，印章的主要功能是（ ）。
A. 封存物品
B. 递送物件
C. 信用凭证
D. 办理结算

第二部分 言语理解与表达

本部分包括表达与理解两方面的内容。请根据题目要求，在四个选项中选出一个最恰当的答案。

请开始答题：

21. 我们的一些科普文章常常激不起公众的兴趣，原因之一便是枯燥。要把科普文章写得“郁郁乎文哉”，就需要作家的笔。科学的飞速发展，为文学写作提供了一座富矿。相信有眼光的文学家一旦领略科学题材的广阔富饶，便会陶醉在它的无限风光中乐而忘返。

这段文字谈论的是（ ）。

- A. 科普文章对作家的依赖
B. 科学和文学的互相激励作用
C. 科学和文学互相依赖的关系
D. 科学发展为文学提供了丰富的素材

22. 在我国加入世界贸易组织、农业科技迅猛发展的形势下，农业面临的竞争首先是科技竞争。只有尽快提高农民的文化素质和科技意识，才能不断推广大批先进实用的农业科技成果，为农业和农村经济的发展提供有力的科技支撑。我国将继续推进农业和农村经济结构调整，大力发展优势农产品和特色产业，将在粮食主产区推广 50 个优质高产高效品种和 10 项关键技术。这些品种和技术的推广和运用都需要高素质的农民。为此，国家已经决定大力发展农村成人教育，在全国普遍开展农村实用技术培训，每年将培训农民超过 1 亿人次。

这段文字的意思是在强调（ ）。

- A. 农民亟须提高科学文化素质
B. 国家加大农业和农村经济结构调整
C. 发展科技才能提高我国农业的竞争力
D. 每年有大量农民接受农村实用技术培训

23. 中国老百姓无论怎样穷，怎样苦，也往往要从牙缝里挤出钱来，供孩子上学念书。他们很清楚只有这样才可能从根本上改变命运，才可能拥有未来。运用到国家政策层面，毫无疑问，教育只应该是公益事业，是烧钱的事业。

这句话中“烧钱的事业”可以理解为（ ）。

- A. 教育是一项非常费钱的事业
B. 对教育应该投资而不应对中谋利
C. 对教育的投资可能无法收回成本
D. 国家应该增加教育投资力度

24. 有一种看法，认为结构游戏只不过是幼儿拼拼凑凑、搬搬运运而已，无须教师过多的参与。其实，结构游戏如能进行得好，它不但能培养幼儿的搭配能力、空间想象能力、思维能力，而且能促进幼儿手、脑、眼协调一致的能力和培养幼儿对造型艺术的审美能力。但要使结构游戏发挥出如此的作用，教师不仅要参与，更要不失时机地示范、指导、点拨，否则，便不可能有这样的效果。

通过这段文字我们可以知道（ ）。

- A. 幼儿的健康发展离不开结构游戏
B. 幼儿教师与幼儿能力的形成有很大关系
C. 合格的幼儿教师应掌握结构游戏的教法
D. 幼儿对造型艺术的审美能力有赖于结构游戏

25. 上海零点市场调查公司将上海、北京、广州三地家庭的子女教育与养成费用支出情况做了一个比较，发现三地家庭为子女教育支付给学校的费用水平，以北京为最低；而在其他教育支出方面，以上海家庭的支出水平显著较低；以总体水平而论，上海孩子所获得的零花钱和所需家长承担的生活费用也低于京穗。

通过这段文字我们可以知道，广州家庭（ ）。

- A. 给孩子的零花钱少于北京

- B. 为子女教育支出总体水平高于上海
 C. 在其他教育方面的支出水平介于北京、上海之间
 D. 为子女教育支付给学校的费用水平介于北京、上海之间
26. 有一种很流行的观点，即认为中国古典美学注重美与善的统一。言下之意则是中国古典美学不那么重视美与真的统一。笔者认为，中国古典美学比西方美学更看重美与真的统一。它给美既赋予善的品格，又赋予真的品格，而且真的品格大大高于善的品格。概而言之，中国古典美学在对美的认识上，是以善为灵魂而以真为最高境界的。
 通过这段文字我们可以知道，作者的观点（ ）。
- A. 正确而不流行
 B. 流行而不正确
 C. 新颖而不流行
 D. 流行而不新颖
27. 在西斯廷礼拜堂的天花板上，文艺复兴时期的艺术巨匠米开朗其罗把他笔下的人物描绘得如此雄壮、有力。在意大利，每当我们看到这些魁伟强劲、丰满秀美的人体艺术作品时，就会深深地感到人类征服自然、改造自然的勇气和力量，使我们对文艺复兴运动与现代体育的渊源有了更深刻的理解。
 这段文字是在谈文艺复兴运动与（ ）。
- A. 现代体育
 B. 人体艺术
 C. 意大利
 D. 米开朗其罗
28. 目前，针对禽流感的特效药泰米氟氯在越南还没有通过卫生部的登记，因此很难在越南广泛流通。
 这句话的意思是（ ）。
- A. 越南紧缺治疗禽流感的药
 B. 越南买不到治疗禽流感的药
 C. 禽流感特效药在越南广为流通尚需时日
 D. 越南卫生部应该赶紧对泰米氟氯进行登记
29. 这些像尘土一样卑微的人们，他们的身影出现在我的视线里，他们的精神沉淀在我的心灵里，他们常常让我感觉到这个平凡的世界是那么可爱，这个散淡的世界其实是那么默契，而看起来如草芥一样的生命种子，其实是那么坚韧和美丽。
 最符合这段文字中心思想的是（ ）。
- A. 生命不平凡但美丽
 B. 生命因平凡而美丽
 C. 生命既平凡又美丽
 D. 生命的平凡和美丽
30. 人们不喜欢丢掉自己的原有“地盘”，不喜欢丢面子。他们往往陷入一种思想陷阱，也就是经济学家所说的“沉没成本”，它指一种时间和金钱的投资，只有在产品销售成功后才可顺利回收。在英语国家中，也被称为“将钱掉进排水沟里”。
 这段文字意在告诉我们（ ）。
- A. 很多人有怀旧情绪，不善于放弃
 B. 所有金钱和时间上的投资都会得到回报
 C. 计算投资成本时，应该把“沉没成本”也加进去
 D. 当决定是否进行投资的时候，必须忘掉自己过去的投资
31. 假如法庭陪审员过于专业化，他可能因强烈的专业视角而丧失一个普通人的正常视野。法律是为普通人制定的，也需要普通人来遵守才有效力，同样，司法过程也需要普通人制度化的参与。
 这段文字是针对什么问题阐述观点的?（ ）
- A. 外人干预法庭审理过程
 B. 法庭审理案件的程序
 C. 法律怎样才会得到有效的遵守
 D. 由专业人员担当法庭陪审员

32. 设立最低工资的初衷是维护低收入的贫穷工人的利益，但到头来这些人却找不到工作。有最低工资的规定，雇主当然是选聘生产力较高或较“可爱”的了。在美国，最低工资增加了种族歧视——支持这种结论的研究很多。
- 最低工资制度让一些人找不到工作的原因是（ ）。
- A. 一些雇主有种族歧视
B. 工资太低不能维持生活
C. 没有了报酬上的就业优势
D. 生产力不能满足雇主的要求
33. 正常儿童一时专注于一种或两种事情是常见的现象，比如学某部广告片里面的叮当声，或者要用某种米老鼠碗吃麦片。一般来说，这些临时的狂热最终都会过去。有些正常儿童天生就不爱表示热诚，不喜欢人抱，这并不说明他们就一定有孤独症。
- 根据这段文字，可以推出的是（ ）。
- A. 孤独症儿童喜欢叮当声或米老鼠
B. 不喜欢人抱的儿童容易患孤独症
C. 异常专注与冷漠是孤独症的表现
D. 广告片有可能成为孤独症的诱因
34. 危机处理是指突如其来一个事件爆发以后，政府怎么处理，怎么应对。危机管理则更全面，不仅包含了针对危机爆发期、持续期和消退期的处理方法，甚至包括了针对潜伏期的处理，就是当危机还没有产生的时候，政府应具有一种预警的能力，然后再具备危机处理应变的能力。
- 根据这段文字，正确的一项是（ ）。
- A. 危机处理更关键
B. 危机管理包含危机处理
C. 危机处理是危机管理的核心
D. 危机管理可以预防危机事件发生
35. 古人曾经说过，当坚硬的牙齿脱落时，柔软的舌头还在。柔软胜过坚硬，无为胜过有为。
- 这段文字主要想说明的是（ ）。
- A. 古人的思想深邃精深
B. 柔软的东西强于坚硬的
C. 以柔克刚是最好的选择
D. 人生应当适当保持“低姿态”
36. 长期以来，在传统观念的影响下，对于司法机关在执法过程中侵害公民、法人和其他组织的合法权益的行为，缺乏有效可行的保障机制来恢复和弥补被侵权人的权利。遭受侵害的当事人不知道怎样保护自己的合法权益，更没有一条光明、可靠的渠道来支持这种保护。
- 这段文字的主旨是（ ）。
- A. 司法机关执法受到传统观念的深刻影响
B. 司法机关的执法过程也应有法可依、有法必依
C. 目前缺少保障机制来弥补被司法机关侵犯的权利
D. 制定规范和约束司法机关执法过程的法律势在必行
37. 夏天少数人为贪图凉爽，早餐以冷饮代替豆浆和牛奶，这种做法在短时间内不会对身体产生影响，但长期如此会伤害“胃气”。在早晨，身体各系统器官还未走出睡眠状态，过多食用冰冷的食物，会使体内各个系统出现挛缩及血流不顺的现象。所以早饭时应首先食用热稀饭、热豆浆等热食，然后再吃蔬菜、面包、水果和点心等。
- 这段文字主要谈的是（ ）。
- A. 夏天吃早餐的重要性
B. 夏天早餐喝冷饮的危害
C. 夏天早餐应吃什么食物
D. 夏天吃早餐的注意事项
38. 对于外人来说，武陵源有着难以描述的神奇与秀丽。而在当地土家族人眼中，每座形态各异的石峰，都能演绎出一个神奇古老的传说。
- 通过这段文字我们可以知道（ ）。
- A. 居住在武陵源的人都是土家族人

- B. 武陵源在当地人眼中并不怎么秀丽
 C. 对外人对武陵源的古老传说大多不怎么了解
 D. 武陵源无论对外人还是对当地人都是有魅力的
39. 我们虽然不难从中国的政治文化中找到“引咎辞职”的历史渊源，但目前我们推行的“引咎辞职”主要还是受到现代西方政治文明影响的结果。
 这段文字表明（ ）。
- A. 中国政治文化中很早就存在“引咎辞职” B. 中西的“引咎辞职”之间存在很大差异
 C. 目前我国的“引咎辞职”与古代完全不同 D. 中国的政治受到现代西方政治文明的影响
40. 生命是一场充满意外收获的伟大历险，看上去难以掌握，其实机会无处不在。如果你从不犯错误，或者从没有人批评过你，那么你肯定没进行过任何大胆的尝试。如果一个人这样生活，那么他肯定无法发挥出所有潜力，当然也就很难真正享受到生活的乐趣。
 这段文字主要是想说明（ ）。
- A. 人生要勇于尝试 B. 生活的乐趣在于冒险
 C. 生活中机会无处不在 D. 一个人不可能从不犯错误
41. 一些招工单位提出的用人条件，动辄就是大本以上学历，本来有些工种普通技工即可胜任，可招工单位非要招本科生、研究生装点门面。在现有的人才概念中，技术工人常常被排斥在人才的范畴之外，或者提起来重要，排起队来次要；关键岗位需要，而盘点“功名”时则觉得他们没必要。
 这段文字是针对下面哪种现象谈的？（ ）。
- A. 用人单位哄抬学历 B. 没有做到人尽其用
 C. 技工没受到足够重视 D. 对人才概念的错误认识
42. 古人有“事死如事生”的传统，所以生前的必需品必得件件具备，自然金钱是不可或缺的。
 从这段文字我们可以推断出（ ）。
- A. 古人一定非常重视金钱 B. 古人会给死者一些金钱
 C. 古人墓中可能留有金钱 D. 死者的金钱应全部陪葬
43. 思想从来都是个人的思想，一个思想家决不能去控制、操纵其他人的灵魂，每一个人生来都是平等独立的。因此，思想家的使命，只在于表述以他自己的眼光、角度对世界的认识和解释，而不在于改造世界。改造世界是一切人共同的事。
 对这段文字，表述正确的一项是（ ）。
- A. 思想家都有局限性 B. 思想家都是个人主义者
 C. 思想家只能传达自己的思想 D. 思想家对世界不会产生影响
44. 家丑问题的存在是个客观事实，并非不亮出来就不存在。问题的关键不在该不该亮，而是有了家丑到底想不想真正解决。不亮，问题不仅存在，而且还有恶化成不治之症的可能。亮了，正是显示出有解决问题的把握和能力，是一种信心的表现，让人们看到了彻底根治的希望。
 对这段文字理解正确的一项是（ ）。
- A. 遮盖“家丑”就是欲盖弥彰 B. 尽可能把问题消灭在萌芽状态
 C. 有足够的把握后再把问题亮出来 D. “负面新闻”可以取得正面效果
45. 教育目标不是教学生如何执行别人为自己制定的规范，而是帮助他们了解规范应该如何形成，自己如何参与创造合理的社会规范。换句话说，我们不应该教他们如何听话，而是教他们学会如何自己管理自己，如何挑战不合理的社会规范，创造新的制度。
 这段文字最可能批判的是（ ）。
- A. 阻碍学生进行创新 B. 一味地要求学生循规蹈矩

C. 不为学生提供社会实践的机会

D. 不注重提高学生自我管理能力和

第三部分 数量关系

在这部分试题中，每道题呈现一段表述数字关系的文字，要求你迅速、准确地计算出答案。

请开始答题：

46. 27, 16, 5, (), $1/7$
A. 16
B. 1
C. 0
D. 2
47. $1/6, 2/3, 3/2, 8/3, ()$
A. $10/3$
B. $25/6$
C. 5
D. $35/6$
48. 1, 1, 3, 7, 17, 41, ()
A. 89
B. 99
C. 109
D. 119
49. 1, 0, -1, -2, ()
A. -8
B. -9
C. -4
D. 3
50. 1, 2, 2, 3, 4, 6, ()
A. 7
B. 8
C. 9
D. 10
51. $\sqrt{2}-1, \frac{1}{\sqrt{3}+1}, \frac{1}{3}, ()$
A. $\frac{\sqrt{5}-1}{4}$
B. 2
C. $\frac{1}{\sqrt{5}-1}$
D. $\sqrt{3}$
52. 1, 1, 8, 16, 7, 21, 4, 16, 2, ()
A. 10
B. 20
C. 30
D. 40
53. 0, 4, 18, 48, 100, ()
A. 140
B. 160
C. 180
D. 200
54. 3, 4, 6, 12, 36, ()
A. 8
B. 72
C. 108
D. 216
55. 1, 4, 3, 5, 2, 6, 4, 7, ()
A. 1
B. 2
C. 3
D. 4
56. $2004 \times (2.3 \times 47 + 2.4) \div (2.4 \times 47 - 2.3)$ 的值为 ()。
A. 2003
B. 2004
C. 2005
D. 2006
57. 分数 $4/9, 17/35, 101/203, 3/7, 151/301$ 中最大的一个是 ()。

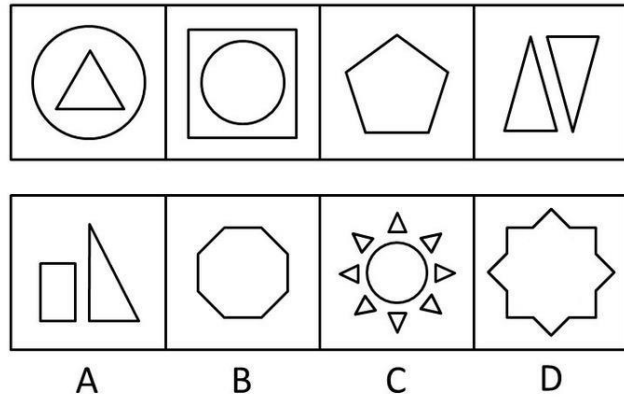
- A. 4/9
B. 17/35
C. 101/203
D. 151/301
58. $173 \times 173 \times 173 - 162 \times 162 \times 162 = ()$ 。
A. 926183
B. 936185
C. 926187
D. 926189
59. 一种打印机，如果按销售价打九折出售，可盈利 215 元，如果按八折出售，就要亏损 125 元。则这种打印机的进货价为 ()。
A. 3400 元
B. 3060 元
C. 2845 元
D. 2720 元
60. 某人在公共汽车上发现一个小偷向相反方向步行，10 秒钟后他下车去追小偷，如果他的速度比小偷快一倍，比汽车慢 $\frac{4}{5}$ ，则此人追上小偷需要 ()。
A. 20 秒
B. 50 秒
C. 95 秒
D. 110 秒
61. 乘火车从甲城到乙城，1998 年初需要 19.5 小时，1998 年火车第一次提速 30%，1999 年第二次提速 25%，2000 年第三次提速 20%。经过三次提速后，从甲城到乙城乘火车只需要 ()。
A. 8.19 小时
B. 10 小时
C. 14.63 小时
D. 15 小时
62. 张先生向商店订购某种商品 80 件，每件定价 100 元。张先生向商店经理说：“如果你肯减价，每减 1 元，我就多订购 4 件”。商店经理算了一下，如果减价 5%，由于张先生多订购，仍可获得与原来一样多的利润。则这种商品每件的成本是 ()。
A. 75 元
B. 80 元
C. 85 元
D. 90 元
63. 某船第一次顺流航行 21 千米又逆流航行 4 千米，第二天在同一河道中顺流航行 12 千米，逆流航行 7 千米，结果两次所用的时间相等。假设船本身速度及水流速度保持不变，则顺水船速与逆水船速之比是 ()。
A. 2.5: 1
B. 3: 1
C. 3.5: 1
D. 4.5: 1
64. 小红把平时节省下来的全部五分硬币先围成一个正三角形，正好用完，后来又改围成一个正方形，也正好用完。如果正方形的每条边比三角形的每条边少用 5 枚硬币，则小红所有五分硬币的总价值是 ()。
A. 1 元
B. 2 元
C. 3 元
D. 4 元
65. 外语学校有英语、法语、日语教师共 27 人，其中只能教英语的有 8 人，只能教日语的有 6 人，能教英、日语的有 5 人，能教法、日语的有 3 人，能教英、法语的有 4 人，三种都能教的有 2 人，则只能教法语的有 ()。
A. 4 人
B. 5 人
C. 6 人
D. 7 人
66. 有一只钟，每小时慢 3 分钟，早晨 4 点 30 分的时候，把钟对准了标准时间，则钟走到当天上午 10 点 50 分的时候，标准时间是 ()。
A. 11 点整
B. 11 点 5 分
C. 11 点 10 分
D. 11 点 15 分

第四部分 判断推理

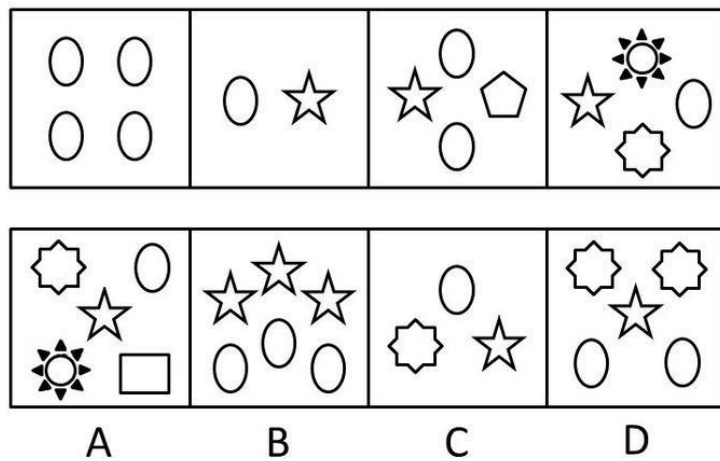
一、图形推理。请按每道题的答题要求作答。

请开始答题：

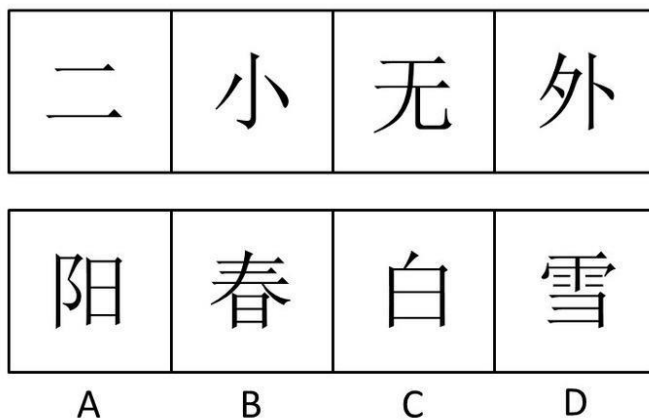
71. 从 A、B、C、D 四个选项中选出最合适的一个，使得它保持第一行图形所呈现的规律性（ ）。



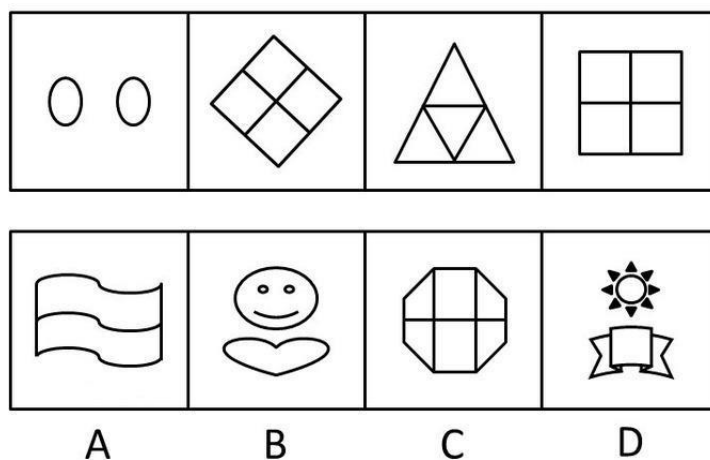
72. 从 A、B、C、D 四个选项中选出最合适的一个，使得它保持第一行图形所呈现的规律性（ ）。



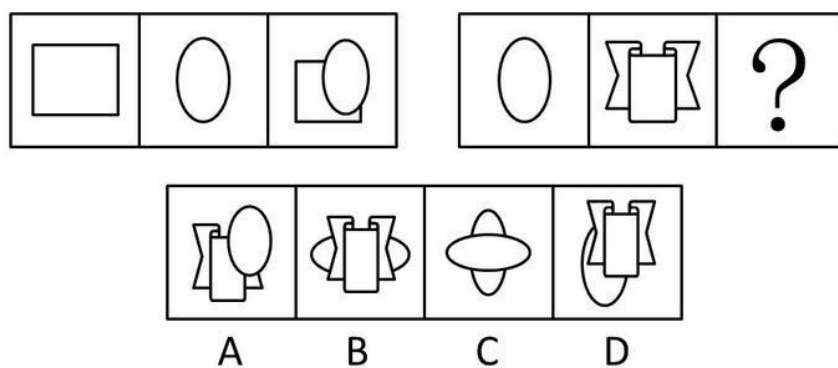
73. 从 A、B、C、D 四个选项中选出最合适的一个，使得它保持第一行图形所呈现的规律性（ ）。



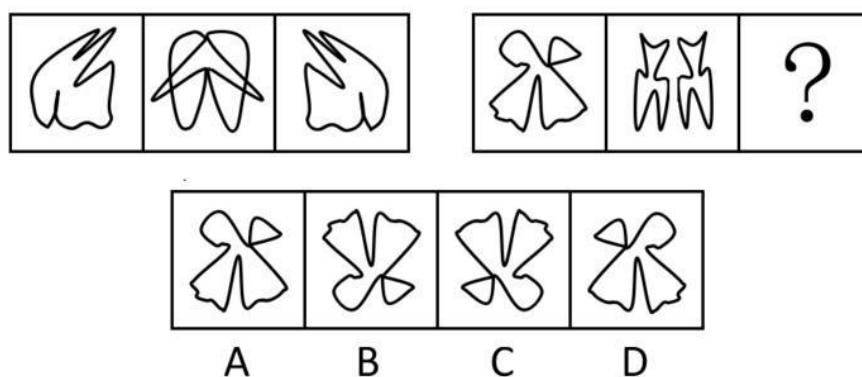
74. 从 A、B、C、D 四个选项中选出最合适的一个，使得它保持第一行图形所呈现的规律性 ()。



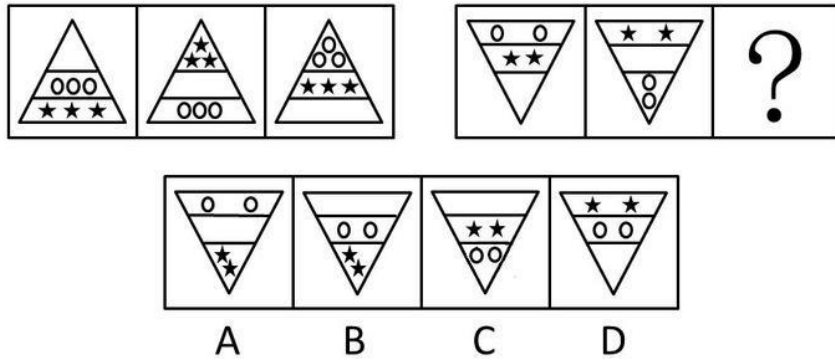
75. 从所给的四个选项中，选择最适合的一项填入问号处，使之呈现一定的规律性 ()。



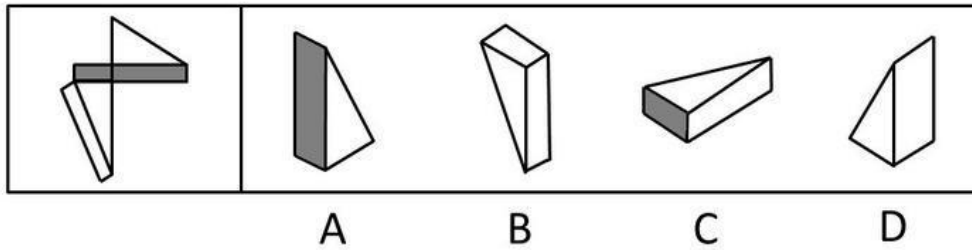
76. 从所给的四个选项中，选择最适合的一项填入问号处，使之呈现一定的规律性 ()。



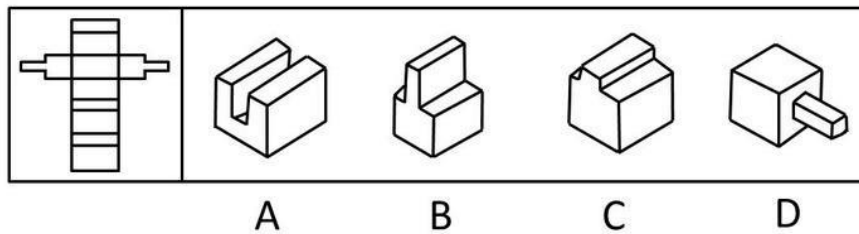
77. 从所给的四个选项中，选择最适合的一项填入问号处，使之呈现一定的规律性 ()。



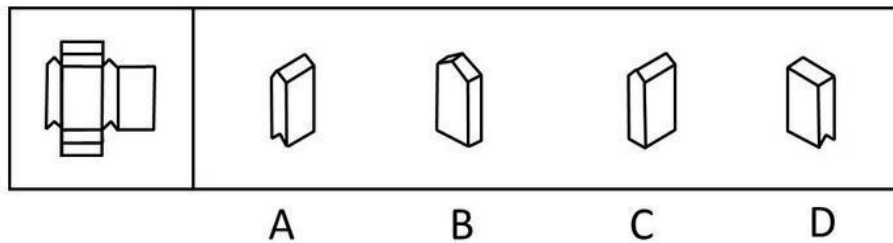
78. 右边所给的四个选项中，哪一个由左边第一个图形叠成？（ ）



79. 右边所给的四个选项中，哪一个由左边第一个图形叠成？（ ）



80. 右边所给的四个选项中，哪一个由左边第一个图形叠成？（ ）



二、定义判断。每道题先给出定义，然后列出四种情况，要求你严格依据定义，从中选出一个最符合或最不符合该定义的答案。注意：假设这个定义是正确的，不容置疑的。

请开始答题：

81. 赫兹伯格的双因素理论区分了两大类影响人们工作的因素，一类是与工作环境和条件相关的保健因素，这些因素处理不好，员工就会感到不满，即使解决了也只是没有不满而已；一类是与工作本身有关的激励因素，表现为工作的性质、实际的责任、个人成长和获得认可的机会以及成就感等，这些因素具备了，就可以对员工产生激励。

下列属于激励因素的是（ ）。

- A. 人际关系
- B. 技术监督系统
- C. 公司的政策与行政管理
- D. 上级对个人工作的认同

82. 前馈控制是以未来为导向的，它的目标是在偏差发生之前阻止其发生。
下列属于前馈控制的是（ ）。
- A. 管理者可以根据连续化的业务数据流更新预算
 - B. 实际发生的费用与季度预算进行比较
 - C. 银行要求在发放贷款前签订一系列的文件、备忘录并必须经过主管审批
 - D. 监控系统可以实时跟踪每台机器的运行指标，以便管理者及时修正差错
83. 基本归因错误是指人们经常把他人的行为归因于人格或态度等内在特质上，而忽视他们所处情境的重要性。
下列属于基本归因错误的是（ ）。
- A. 小张考试没有考好，他觉得自己真是太笨了
 - B. 小张考试没有考好，他认为不是自己没有学好，而是老师出的题太偏了
 - C. 小李上街丢了钱包，回来后很后悔自己的粗心大意，而他的同学小张安慰他说只是那个地方太乱了，本来小偷就很多
 - D. 小李考试没有考好，小张认为一定是小李平时不努力，而实际上小李家里最近出了点事，对他的情绪有些影响
84. 自我实现预言是指我们对他人的期望会影响到对方的行为，使得对方按照我们对他的期望行事。
下列属于自我实现预言的是（ ）。
- A. 小张本来是一个很普通的孩子，但他的父母望子成龙，于是不惜重金让他读市里最好的高中，但最终小张也只上了一所普通大学
 - B. 小张是李老师班上一名普通的学生，可是有一天一位智力测量专家告诉李老师小张很有数学天分，于是以后数学课上李老师对小张格外关注，终于在半年后的考试中小张的数学成绩有了很大的提高
 - C. 今天是小红的生日，她希望爸爸下班时能买生日蛋糕回来，果然爸爸在下班的时候买了一大盒生日蛋糕
 - D. 小李从小就希望自己能成为一个工程师，当他大学毕业后他终于到一家公司当上了软件工程师
85. 认知失调是指由于做了一项与态度不一致的行为而引发的不舒服的感觉。
下列属于认知失调的是（ ）。
- A. 小李和自己喜欢的女孩一起郊游
 - B. 小李在宴会上不理睬与自己有过节的小张
 - C. 小李很不喜欢上司的夸夸其谈，但为了面子而不得不恭维他
 - D. 小李正在戒烟，他的同事给他香烟的时候被他婉言拒绝了
86. 程序化决策是可以确定的、在以前已经做过的决策，它们有客观正确的答案而且可以使用简单的规则、政策、数学计算来解决。非程序化决策则是全新的、复杂的、无章可循的，它们有各种各样的解决方案，而且每个方案都各有优缺点。
下列属于非程序化决策的是（ ）。
- A. 建筑工人施工
 - B. 医院接收病人的步骤
 - C. 企业中定期记录存货
 - D. 制定公司发展战略
87. 高峰体验指的是人在追求自我实现的历程中，历经基本需求的追寻并获满足之后，在追求自我实现时所体验到的一种臻于顶峰而又超越时空与自我的心灵满足感与完美感，这种感觉只可意会不能言传。

下列不属于高峰体验的是（ ）。

- A. 运动员登上奥运冠军领奖台时的心理体验
- B. 科学家获得诺贝尔奖时的心理体验
- C. 观众见证人类首次登上月球时的心理体验
- D. 通过十年寒窗苦读，收到理想的大学录取通知时的心理体验

88. 特设性修改是指为了使某个科学理论免遭被否证的危险，对该理论进行修改或者增加一些新的假定，使该理论不具有可否认性或者可检验性。

下列属于特设性修改的是（ ）。

A. 托勒密体系的学者为了使“地心说”符合观察到的天体运行数据，不断增加本轮的数目。到16世纪，托勒密体系的本轮总数一直增加到80个

B. 亚里士多德的信徒为了坚持一切天体都是完美球体的学说，提出月球上存在的不可检测的物质充满了凹处，使得月球仍然保持完美球体形状

C. 爱因斯坦为了研究特别大和特别快的物体，修改了牛顿的绝对时空体系，提出了相对时空体系，其中包括光速不变论和质量可变论

D. 黎曼等通过修改欧氏几何的第五条公理，创造出了非欧几何学，把数学向前推进了一大步

89. 行政许可是指行政机关根据公民、法人或者其他组织的申请，经依法审查，准予其从事特定活动的行为。

下列属于行政许可的是（ ）。

A. 烟草专卖局为方便市民、扩大市场，特邀请该市数家有影响的商家增设香烟销售业务，并向他们颁发了烟草专卖许可证

B. 某网吧因违规经营被吊销营业执照转营其他业务

C. 某人为提高专业技能，特向单位申请参加研究生学习，单位领导同意了其申请，并同意在其毕业后为他报销部分学习费用

D. 某人为从事运输去学习驾驶技术。其考核合格并申请后，公安车辆管理部门为其核发了机动车驾驶证

90. 民法规定，一项允诺可以通过明示或默示方法作出。所谓明示是行为人直接将自主决定的意思表示于外的允诺方法，包括口头明示和书面明示。

下列不属于明示范畴的是（ ）。

A. 用户以通话形式申请提供服务

B. 用户到营业厅办理信用卡手续

C. 开车到收费停车场停车

D. 授权朋友办理服务申请

三、事件排序：每道题给出五个事件，每个事件是以最简短语句表述的，接着给出表示事件的四种假定发生顺序的四个数字序列，请你选择其中最合乎逻辑的一种事件顺序。

请开始答题：

91. ①绿叶葱葱，森林茂密

②厂房林立，马达轰鸣

③钻机飞转，原油滚滚

④燃气发电，远程送电

⑤阳光明媚，百花齐放

A. ③④⑤①②

B. ⑤④①②③

C. ①②③④⑤

D. ⑤①③④②

92. ①融入异族自谋出路

- ②一支残余部队向西突围
③跨过界河向北征战
④战火熄灭回国通商
⑤青年男子被征入伍
- A. ③⑤②①④
B. ③②①④⑤
C. ⑤②③④①
D. ⑤③②①④
93. ①嫌疑人聚焦在印刷厂一名职工身上
②死者所穿衣服完好无损
③工作服前襟上有一块补丁
④检测碎布片中有油墨成分
⑤现场拾到一块衣服碎片
- A. ②⑤①④③
B. ②⑤④③①
C. ⑤②④①③
D. ⑤②③④①
94. ①“红绿灯”节目作了报道
②现场拾到一只破碎灯罩
③对同一型号车辆逐一排查
④确定为某品牌汽车零件
⑤受伤者被送到医院
- A. ②①⑤③④
B. ②⑤①③④
C. ⑤②①④③
D. ⑤①②④③
95. ①申请专利
②研制出新产品
③起诉索赔
④发现仿制品
⑤败诉
- A. ③⑤②④①
B. ①②④③⑤
C. ②①③④⑤
D. ②④③⑤①
96. ①林凯到电视台做实习记者
②采访在华外国留学生
③暑期学校开展社会实践活动
④林凯结交了很多外国朋友
⑤林凯感到自己的英语不好
- A. ③①②⑤④
B. ③⑤①④②
C. ①②⑤③④
D. ③④⑤①②
97. ①创作电影插曲
②接到配音任务
③歌曲被广为传唱
④到基层体验生活
⑤电影取得成功
- A. ③④①②⑤
B. ①③②⑤④
C. ②④①⑤③
D. ②①⑤④③
98. ①有机物裂解

- ②天然气形成
- ③细菌耗氧
- ④残骸沉积
- ⑤浮游生物死亡

- A. ①②③⑤④
- C. ③①⑤④②

- B. ⑤④①②③
- D. ⑤④③①②

99. ①商品经济出现
②资本主义生产方式产生
③生产力发展
④资本原始积累
⑤社会分工扩大

- A. ①⑤③④②
- C. ③⑤①④②

- B. ③④②⑤①
- D. ①②③⑤④

100. ①生命单体
②原始水生物
③生物大分子
④简单有机物
⑤地球生物圈

- A. ④①②③⑤
- C. ④③①②⑤

- B. ③②④⑤①
- D. ③④②①⑤

四、逻辑判断。每道题给出一段陈述，这段陈述被假设是正确的，不容置疑的。要求你根据这段陈述，选择一个答案。注意：正确的答案应与所给的陈述相符合，不需要任何附加说明即可以从陈述中直接推出。

请开始答题：

101. 甲：儿时进行大量阅读会导致近视眼——难以看清远处景物。乙：我不同意，近视眼与阅读之间的关联都来自以下事实：观看远处景物有困难的孩子最有可能选择那些需要从近处观看物体的活动，如阅读。

乙对甲的反驳是通过（ ）。

- A. 运用类比来说明甲推理中的错误
- B. 指出甲的声明是自相矛盾的
- C. 说明如果接受甲的声明，会导致荒谬的结论
- D. 论证甲的声明中某一现象的原因实际上是该现象的结果

102. 小王：从举办奥运会的巨额耗费来看，观看各场奥运比赛的票价应该要高得多。是奥运会主办者的广告收入降低了票价。因此，奥运会的现场观众从奥运会拉的广告中获得了经济利益。小李：你的说法不能成立。谁来支付那些看来导致奥运会票价降低的广告费用?到头来还不是消费者，包括作为奥运会现场观众的消费者。因为厂家通过提高商品的价格把广告费用摊到了消费者的身上。

下列能够有力地削弱小李对小王反驳的一项是（ ）。

- A. 奥运会的票价一般要远高于普通体育比赛的票价
- B. 奥运会的举办带有越来越浓的商业色彩，引起了普遍的不满
- C. 利用世界性体育比赛做广告的厂家越来越多，广告费用也越来越高
- D. 各厂家的广告支出总体上是一个常量，只是在广告形式上有所选择

下列哪项如果正确，最能支持上面论述？（ ）

- A. 除了天窗，商场两部分的建筑之间还有一些明显的差别
- B. 在某些阴天里，商场中天窗下面的部分需要更多的人工灯光来照明
- C. 在商场夜间开放的时间里，位于商场中天窗下面部分的各部门的销售额不比其他部门高
- D. 位于商场天窗下面部分的各部门，在该商场的其他一些连锁店中也是销售额最高的部门

109. 为保护海边建筑物免遭海洋风暴的袭击，海洋度假地在海滩和建筑物之间建起了巨大的防护墙。这些防护墙不仅遮住了一些建筑物的海景，而且使海岸本身也变窄了。这是因为在风暴从水的一边对沙子进行侵蚀的时候，沙子不再向内陆扩展。

上述信息最支持的一项论断是（ ）。

- A. 为后代保留下海滩应该是海岸管理的首要目标
- B. 防护墙最终不会被风暴破坏，也不需要昂贵的维修和更新
- C. 由于海洋风暴的猛烈程度不断加深，必须在海滩和海边建筑物之间建立起更多高大的防护墙
- D. 通过建筑防护墙来保护海边建筑的努力，从长远来看作用是适得其反的

110. 玛雅遗址挖掘出一些珠宝作坊，这些作坊位于从遗址中心向外辐射的马路边上，且离中心有一定的距离。由于贵族仅居住在中心地区，考古学家因此得出结论，认为这些作坊制作的珠宝不是供给贵族的，而是供给一个中产阶级，他们一定已足够富有，可以购买珠宝。

对在这些作坊工作的手工艺人，考古学家在论断时做的假设是（ ）。

- A. 他们住在作坊附近
- B. 他们不提供送货上门的服务
- C. 他们自己本身就是富有的中产阶级的成员
- D. 他们的产品原料与供贵族享用的珠宝所用的原料不同

111. 交管局要求司机在通过某特定路段时，在白天也要像晚上一样使用大灯，结果发现这条路上的年事故发生率比从前降低了 15%。他们得出结论说，在全市范围内都推行该项规定会同样地降低事故发生率。

最能支持上述论断的一项是（ ）。

- A. 该测试路段在选取时包括了在该市驾车时可能遇见的多种路况
- B. 由于可以选择其他路线，因此所测试路段的交通量在测试期间减少了
- C. 在某些条件下，包括有雾和暴雨的条件下，大多数司机已经在白天使用了大灯
- D. 司机们对在该测试路段使用大灯的要求的了解来自于在每个行驶方向上的三个显著的标牌

112. 某画家从来不在其作品上标注日期，其作品的时间顺序现在才开始在评论文献中形成轮廓。最近将该画家的一幅自画像的时间定位为 1930 年一定是错误的，1930 年时该画家已经 63 岁了，然而画中年轻、黑发的男子显然是画家本人，但却绝不是 63 岁的男子。

上面结论所依据的假设是（ ）。

- A. 画家画过几幅显示他 60 岁以后的样子的自画像
- B. 画家在 63 岁时，不可能在画中将自己画成年轻时的样子
- C. 在该画家远未到 60 岁以前，他没画过明确标注日期的自画像
- D. 通过不给其作品标注日期，画家试图使针对其作品的评论抛开时间因素

113. 地球表面大部分是海洋。只有用比现在更为精密的仪器才可能对海底进行广泛的研究。因此科学家对海底环境的了解一定比对地球上其他环境了解的少。

下列哪项如果正确，最能支持上面结论？（ ）

A. 许多山脉完全在海平面下，然而新的水下探测设备产生的三维图像如地面上的山脉的三维图像一样精确

B. 强大的水流在海底循环，但是它们运动的总体形态不像气流在陆地上运动的形态那样易于理解

C. 与大多数陆地环境相反，海平面的温度条件通常是稳定和一致的，因为太阳光不能穿透到极深的海平面下

D. 非常少的人看过详细的海底延伸区域图，即使这样的图在几乎所有的大图书馆中可以得到

114. 在最近的一部以清朝为背景的电影中，有男主角抽香烟的镜头，而香烟在那个年代尚未出现。然而因为看电影的人明显对这些不在意，因此对于大多数电影观众来说，这一错误显然不会影响该电影在其他方面所揭示的任何历史真实性。

下列哪项如果正确，最能削弱上述结论？（ ）

A. 尽管电影描述了许多未经历史证实的事件，但它因为描述历史事件合乎情理而受到了赞扬

B. 表现男主角抽香烟的电影场景是对于该电影情节至关重要的场景，并且部分场景在倒叙中被第二次放映

C. 历史电影的制作者，通常在历史的真实性和保持素材让现代观众可接受的需要之间做妥协，就像演员们的说话方式一样

D. 在这之前的一部描绘唐朝时代的影片展现了一个官员抽香烟的场景，这一历史性错误被许多大众性的影评文章所嘲讽

115. 如果一个人增加日进餐次数并且不显著增加所摄入的食物总量，那么他的胆固醇水平会显著下降。然而，大多数增加日进餐次数的人同时也摄入了更多的食物。

上面陈述支持的观点是（ ）。

A. 对大多数人而言，胆固醇的水平不受每天吃的食物量的影响

B. 对大多数人而言，每顿饭吃的食物的量取决于吃饭的时间

C. 对大多数人而言，增加每天吃饭的次数将不会导致胆固醇水平显著下降

D. 对大多数人而言，每天吃饭的总量不受每天吃饭的次数影响

二、根据以下资料，回答问题。

甘肃省酒泉市是我国最适宜种植棉花的地区之一。2004 年全市棉花种植面积达到 66.06 万亩，占农作物总播种面积的 35%。棉花已成为带动酒泉农村经济发展的支柱产业，已成为农民致富奔小康的主要手段，已成为促进县域经济发展、增加财政收入的重要组成部分。改革开放以来，全市棉花生产有了较快发展。棉花种植面积由 1983 年的 10.54 万亩发展到 2003 年的 58.74 万亩，增长 4.57 倍，占农作物总播种面积比重由 1983 年的 6.45% 升到 2003 年的 30.8%；棉花总产量（皮棉）由 1983 年的 0.65 万吨增加到 2003 年的 6.67 万吨，增长 9.26 倍。通过多次更新更换优良品种，大力推广地膜覆盖、双株双层、化学调控、病虫害防治等技术，有效地促进了棉花单产的提高。1983 年棉花平均单产为 61.67 公斤/亩，1993 年为 76.62 公斤/亩，2003 年达到 113.55 公斤/亩。20 世纪 80 年代初，全市五个农业县（市）有 40 多个乡（镇）种植棉花。随着种植结构不断调整，棉花生产逐步向气候条件适宜、种植基础好、产量水平高的优势区域集中。2003 年，金塔、敦煌、安西三个植棉县（市）的棉花种植面积之和分别占全市和全省棉花种植面积的 92.53% 和 75.02%，总产量分别占全市和全省棉花总产量的 91.25% 和 77.02%。

121. 酒泉市 2004 年农作物总播种面积比 1983 年约（ ）。

- A. 少 25 万亩
- B. 少 45 万亩
- C. 多 25 万亩
- D. 多 45 万亩

122. 根据上述资料，下列说法不正确的是（ ）。

- A. 2004 年酒泉市全市棉花种植面积高于 2003 年
- B. 1983 年至 2003 年间，酒泉市棉花平均单产增长接近 1 倍
- C. 2004 年酒泉市全市农作物总播种面积低于 2003 年
- D. 金塔、敦煌、安西三个植棉县（市）的棉花平均单产高于酒泉全市的棉花平均单产

123. 2003 年，甘肃省全省棉花总产量约为（ ）。

- A. 8 万吨
- B. 9 万吨
- C. 10 万吨
- D. 11 万吨

124. 根据上述资料，不是酒泉市的棉花生产特点的是（ ）。

- A. 种植面积扩大，产量增加
- B. 科技投入增加，单产增高
- C. 布局逐步优化，集中度提高
- D. 品种不断增加，品质不断改善

125. 1983 年~2003 年间，酒泉市增长速度最快的是（ ）。

- A. 棉花种植面积
- B. 棉花种植面积占农作物总播种面积比重
- C. 棉花总产量
- D. 棉花平均单产

三、根据以下资料，回答问题。

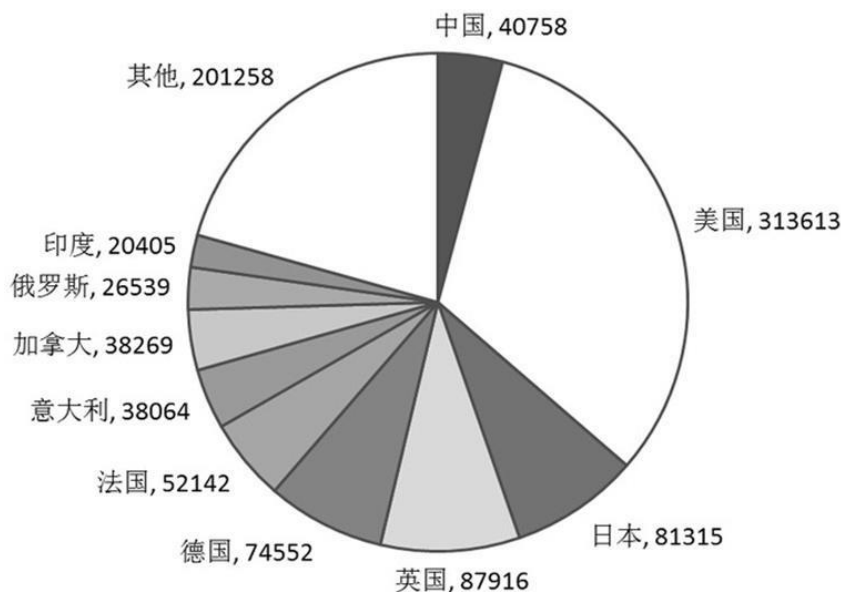
2003 年从事高新技术产品出口的企业共计 1.65 万家，比 1999 年翻了一番。各类企业在数量上保持了增长态势，其中国有企业数量比 1999 年增长 11%，合资企业数量增长 23%，外商与港澳台商独资企业数量增长了 1.5 倍，集体企业数量增长了 1.2 倍，私营企业数量增长了 30 倍。

外商独资企业除了数量跃居首位，其产品出口额也以接近 50% 的速度增长，并成为我国高新技术产品出口额的主要提供者。2003 年，外商与港澳台商独资企业出口金额达到 683 亿美元，是 1996 年出口额的 16 倍，年均增长 49%，占高新技术产品出口总额的 62%；中外合资与港澳台合资企业 2003 年出口金额为 236 亿美元，年均增加 28%，占总额的 21%；国有企业出口额从 1996 年的 37 亿美元增到 2003 年的 115 亿美元，年均增长率 17%，但 2003 年仅占总份额的 10%。私营企业出口额 25 亿美元，是 1996 年 9 万美元的近 3 万倍，年均增长率高达 331%。

1996年，外商与港澳台商独资企业、中外合资与港澳台合资企业和国有企业在高新技术产品出口额中所占比重都在30%左右，目前，外商与港澳台商独资企业在我国高技术产品出口方面已居主导地位。

126. 根据上述资料，下列说法不正确的是（ ）。
- A. 外商与港澳台商独资企业逐渐主导了我国高新技术产品出口
 - B. 私营企业已成为高新技术产品出口的一支不可忽视的新生力量
 - C. 1996至2003年间，国有企业出口额在逐年下降
 - D. 1999至2003年间，我国从事高新技术产品出口的企业数量迅猛增加
127. 1996年，我国高新技术产品的出口总额大约为（ ）。
- A. 37亿美元
 - B. 62亿美元
 - C. 128亿美元
 - D. 236亿美元
128. 1996至2003年间，从事高新技术产品出口的企业数量增长最快的是（ ）。
- A. 国有企业
 - B. 私营企业
 - C. 合资企业
 - D. 集体企业
129. 如果2003年相对于2002年的企业出口额增长率等于年均增长率，则2002年合资和独资企业的出口额是国有企业的倍数为（ ）。
- A. 6.6倍
 - B. 4.6倍
 - C. 2.6倍
 - D. 1.6倍
130. 从1996至2003年间，关于各种企业在高新技术产品出口额所占的比重，下列说法正确的是（ ）。
- A. 私营企业所占比重几乎没有变化
 - B. 集体企业所占比重下降了近20个百分点
 - C. 外商与港澳台商独资企业所占比重增加了15个百分点
 - D. 中外合资与港澳台合资企业所占比重下降了15个百分点

2002年SCI（科学引文索引）收录各国论文数



131. 图中所列国家为SCI的前十名，我国排名（ ）。
- A. 第4
 - B. 第5

